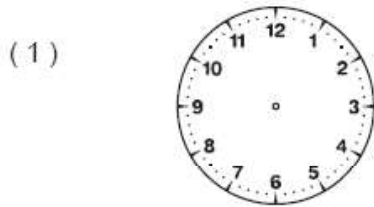
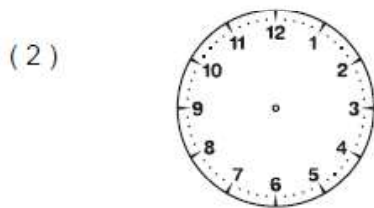


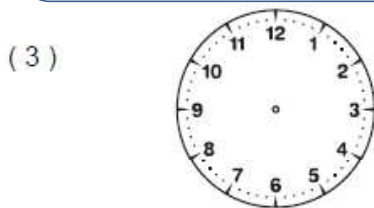
Trace les aiguilles des horloges (l'aiguille des heures en rouge, celle des minutes en bleu).



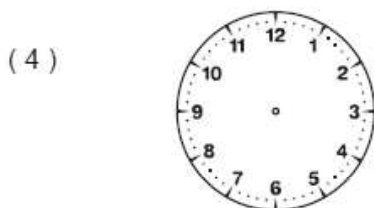
Il est six heures et demie



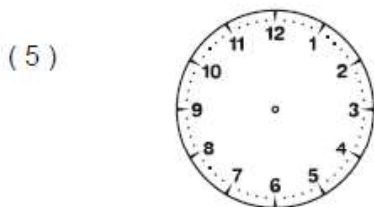
Il est neuf heures et demie



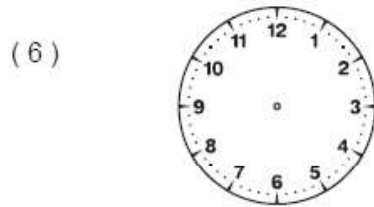
Il est vingt heures



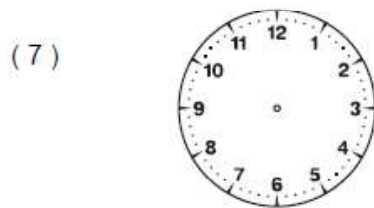
Il est quatre heures



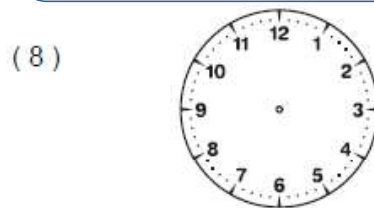
Il est dix heures et demie



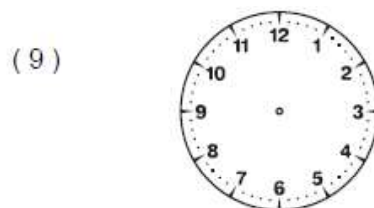
Il est dix-huit heures



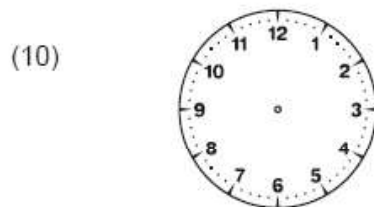
Il est une heure



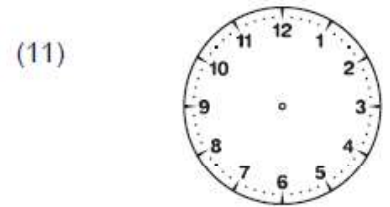
Il est quatre heures et demie



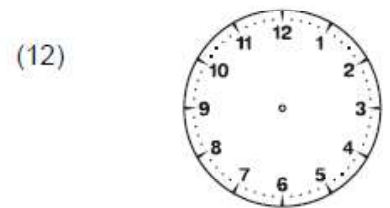
Il est onze heures



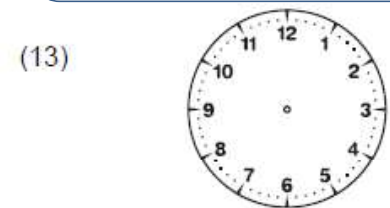
Il est une heure



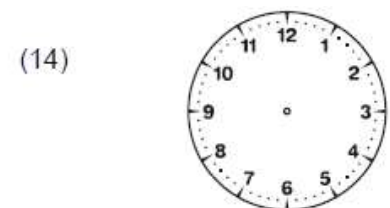
Il est vingt-deux heures trente



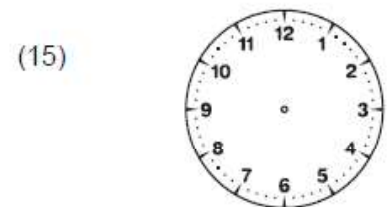
Il est six heures et demie



Il est quinze heures trente



Il est deux heures et demie



Il est midi

Écris l'heure qu'il est, comme dans l'exemple. Attention : c'est le matin !

(1)



Il est sept heures et demie

(2)



Il est _____

(3)



Il est _____

(4)



Il est _____

(5)



Il est _____

(6)



Il est _____

(7)



Il est _____

(8)



Il est _____

(9)



Il est _____

(10)



Il est _____

(11)



Il est _____

(12)



Il est _____

(13)



Il est _____

(14)



Il est _____

(15)



Il est _____

Tu as fait moins de 3 erreurs de lecture de l'heure.

Ton écriture est soignée.


Tu as fait moins de 3 erreurs d'orthographe.

3 Observe, puis écris la somme que la marchande rend à Mila.
Pour t'aider, tu peux faire un schéma sur ton ardoise.


L'objet coute :

Mila donne :



La marchande
lui rend :




7 € 50 c




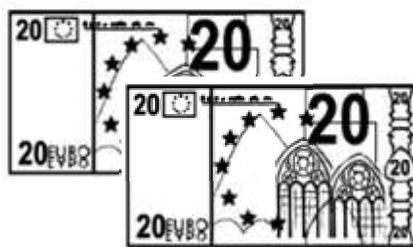
27 € 60 c




15 € 40 c



34 € 90 c



45 € 20 c



www.lutinbazar.fr