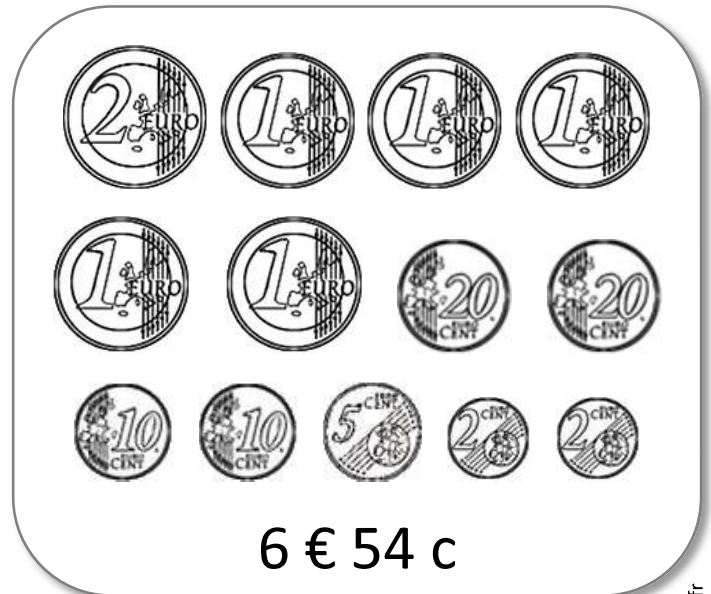
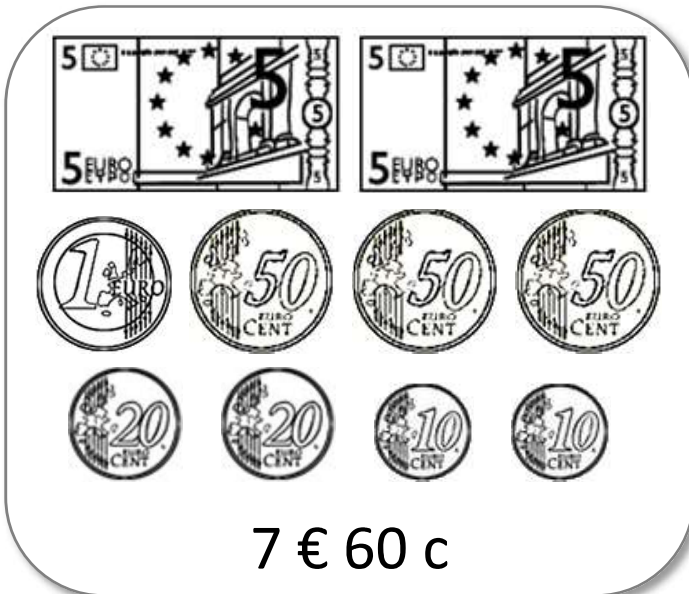


1 Barre les pièces ou les billets en trop.




2 Dessine 1€ 40c de 3 manières différentes, sans utiliser  .



3 Karim achète 1 part de tarte à 1€60c et 3 bonbons à 20c. Combien dépense-t-il ?

[illegible]

① Dessine le moins de pièces et de billets possible pour payer ces objets.






Enveloppe
et timbre :
1 € 70

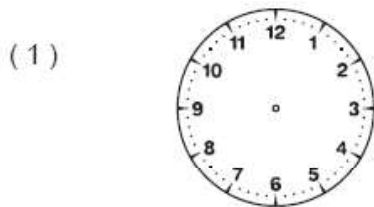


Paire de
baskets :
34 € 90

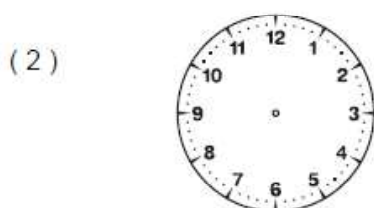
② Voici ce que contiennent les portemonnaies de Léane et Adrien.
Combien possède chaque enfant ?



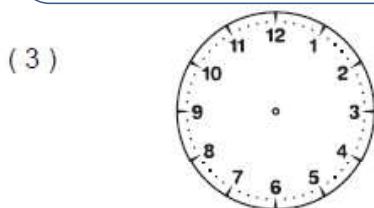
Trace les aiguilles des horloges (l'aiguille des heures en rouge, celle des minutes en bleu).



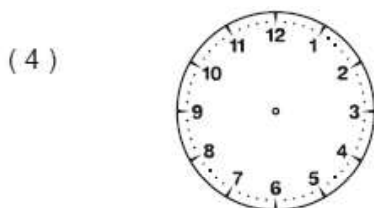
Il est quatre heures



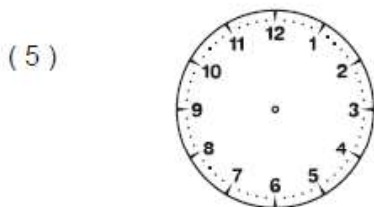
Il est sept heures



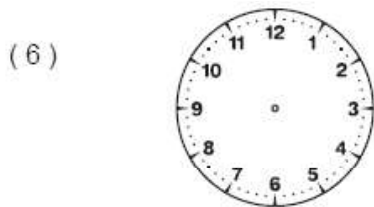
Il est dix-huit heures



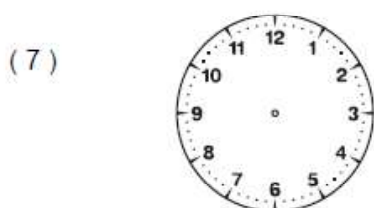
Il est deux heures



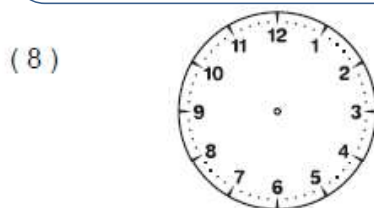
Il est huit heures



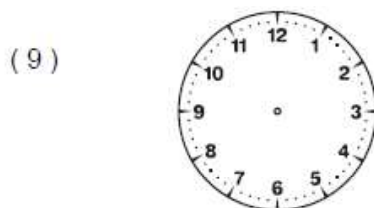
Il est seize heures



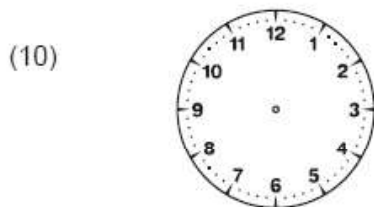
Il est vingt-trois heures



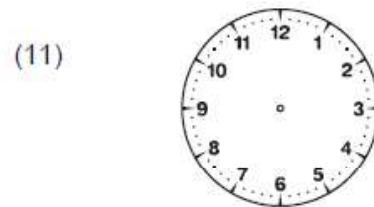
Il est quatre heures



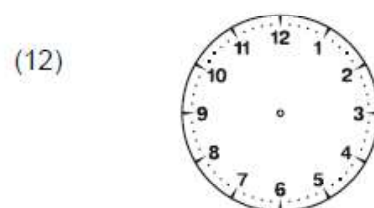
Il est neuf heures



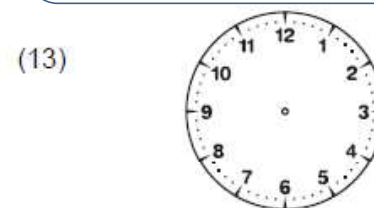
Il est vingt-deux heures



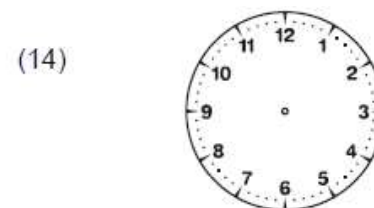
Il est vingt heures



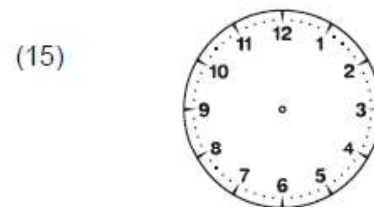
Il est six heures



Il est quinze heures



Il est minuit




Il est dix heures

Tu as fait moins de 3 erreurs sur les horloges.

Ton travail est soigné.

Écris l'heure qu'il est, comme dans l'exemple. Attention : c'est l'après-midi !

(1)

Il est dix-huit heures

(2)



Il est _____

(3)



Il est _____

(4)



Il est _____

(5)



Il est _____

(6)



Il est _____

(7)



Il est _____

(8)



Il est _____

(9)



Il est _____

(10)




Il est _____

(11)




Il est _____

(12)



Il est _____

(13)



Il est _____

(14)



Il est _____

(15)



Il est _____

Tu as fait moins de 3 erreurs de lecture de l'heure.

Ton écriture est soignée.

Tu as fait moins de 3 erreurs d'orthographe.