





Complète le tableau en indiquant la monnaie rendue

	7€ 	12€ 	28€ 	64€ 
Je donne	10€	15€	50€	100€
On me rend				

Chaque enfant paye avec un billet de 100 euros. Calcule la monnaie à rendre.



Monnaie rendue :



Monnaie rendue :



Monnaie rendue :

Complète chaque somme pour faire 10 €.



J'ai 7€ il me manque _____

J'ai 3 € 10 il me manque _____

J'ai 3 € 50 il me manque _____

J'ai 9 € 65 il me manque _____