

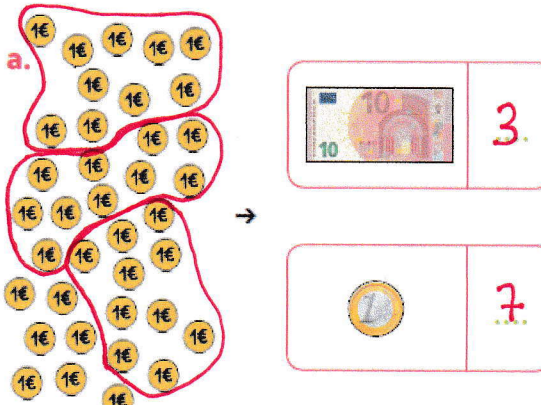

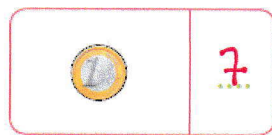
Numération: les échanges

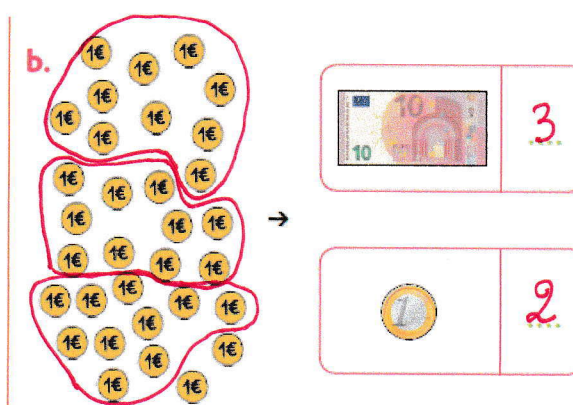

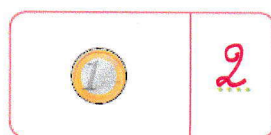
Rappel:

- 1 dizaine est égale à 10 unités. $1d = 10u$
Ex. : 74, c'est 7 dizaines et 4 unités ou 7d et 4u. C'est $70 + 4$.

Pour obtenir un billet de 10€ il faut que j'échange 10 pièces de 1€.

3 Fais les échanges des pièces de 1 € contre des billets de 10 € et complète.

a.  →  
Il y a **37** € en tout.

b.  →  
Il y a **32** € en tout.

Ouvre ensuite le document "exercice 4".

Pour t'aider, je te conseille de dessiner les pièces et les billets de départ et seulement ensuite de faire les échanges.

- **exemple pour le 1er cas: 42 pièces de 1€**

Dessine d'abord les 42 pièces de 1€ et entoure des paquets de 10 pièces que tu pourras ensuite échanger contre un billet de 10€.

4 Remplis le tableau des échanges.

Avant les échanges	Dessin (au besoin)	Après les échanges	Total
42 pièces de 1 €		<p>4 billets de 10 € 2 pièces de 1 € donc 4 d et 2 u</p>	Il y a 42 € en tout.
3 billets de 10 € 15 pièces de 1 €		<p>4 billets de 10 € 5 pièces de 1 € donc 4 d et 5 u</p>	Il y a 45 € en tout.
7 billets de 10 € 26 pièces de 1 €		<p>9 billets de 10 € 6 pièces de 1 € donc 9 d et 6 u</p>	Il y a 96 € en tout.