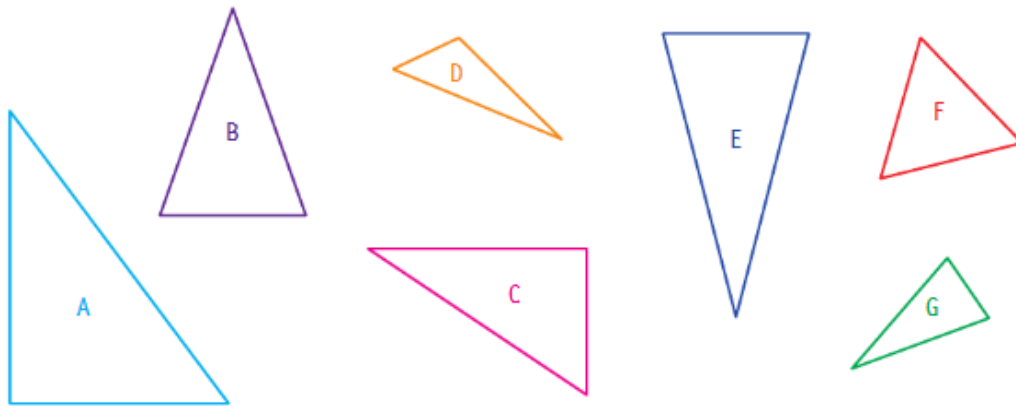


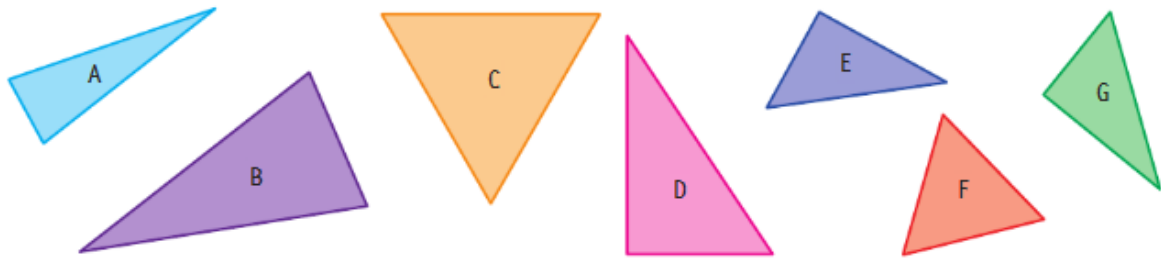
## Reconnaitre et nommer le triangle et ses cas particuliers

**1** \* Retrouve les triangles isocèles parmi ces figures.

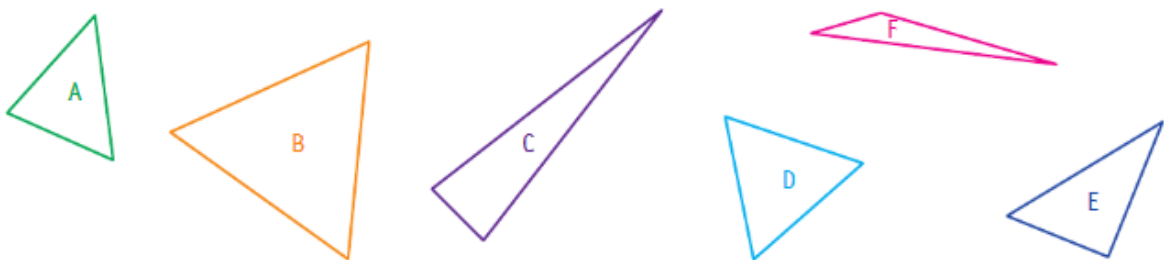
Vérifie les égalités de longueurs.



**2** \* Retrouve les triangles rectangles parmi ces figures.



**3** \* Retrouve les triangles équilatéraux parmi ces figures.



**Ex1:**

Les triangles isocèles sont les triangles B, E et G.

**Ex 2:**

Les triangles rectangles sont les triangles D, G et E.

**Ex 3:**

Les triangles équilatéraux sont les triangles B et D.