

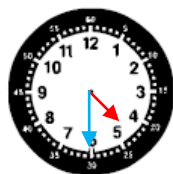
Grandeurs et mesures: lire l'heure

On continue de s'entraîner un peu sur la lecture des heures et des demi-heures. La semaine prochaine, nous aborderons un nouveau chapitre, toujours sur les heures.

Dessine en rouge les aiguilles des heures et en bleu celle des minutes :



8h00



4h30



9h30



5h00



3h30



11h00



1h30



12h00

Dessine en rouge les aiguilles des heures et en bleu celle des minutes :



7h00



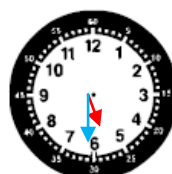
2h30



8h30



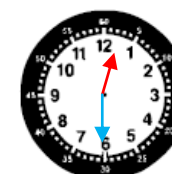
6h00



5h30



10h00



12h30



3h00