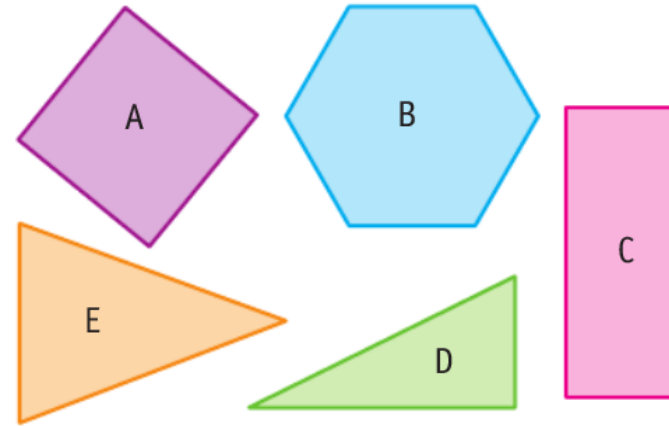


Décrire un carré, un rectangle et un triangle rectangle.

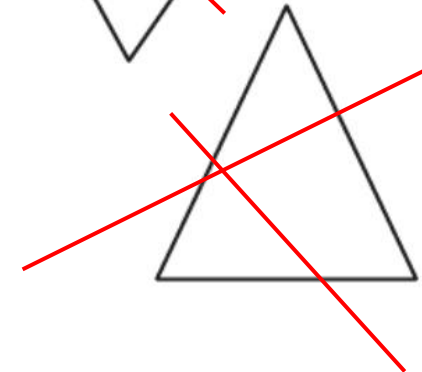

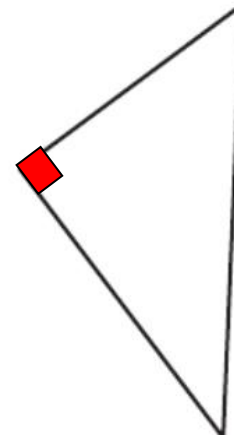
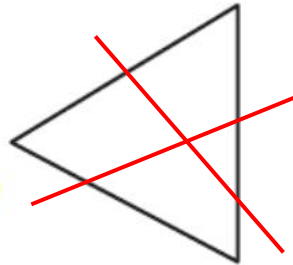
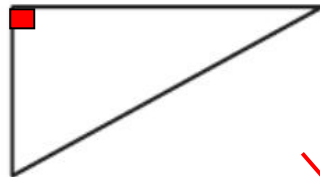
Relis la leçon de la semaine dernière et fais les deux exercices suivants.

**1**  Complète le tableau.

| Figures                | A | B | C | D | E |
|------------------------|---|---|---|---|---|
| Nombre de côtés        | 4 | 6 | 4 | 3 | 3 |
| Nombre de sommets      | 4 | 6 | 4 | 3 | 3 |
| Nombre d'angles droits | 4 | 0 | 4 | 1 | 0 |



**2**  Indique l'angle droit sur les triangles rectangles, barre les autres triangles.



Utilise ton gabarit.