


Géométrie

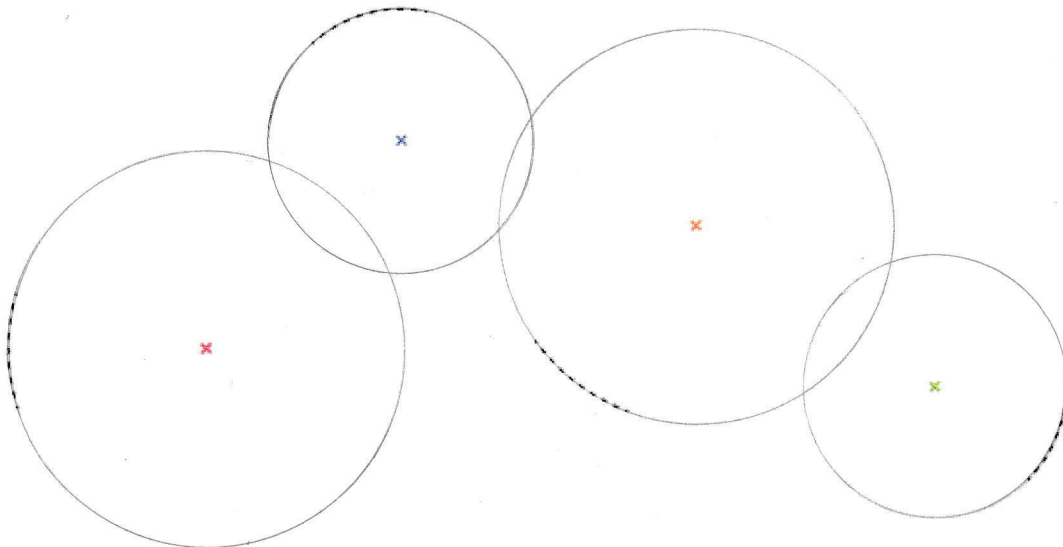
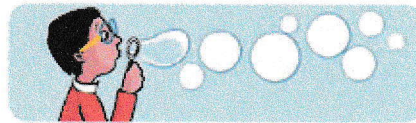
Aujourd'hui, révisions de ce qu'on a déjà fait en géométrie, avant de commencer, la semaine prochaine, un nouveau chapitre.


Voici trois exercices à faire: un sur **l'utilisation du compas**, un sur **les déplacements** et un dernier sur le **vocabulaire géométrique**.

Tu peux faire les 3 exercices directement sur la feuille.


Tracer un cercle

1  Trace les bulles de savon à l'aide de ton compas.

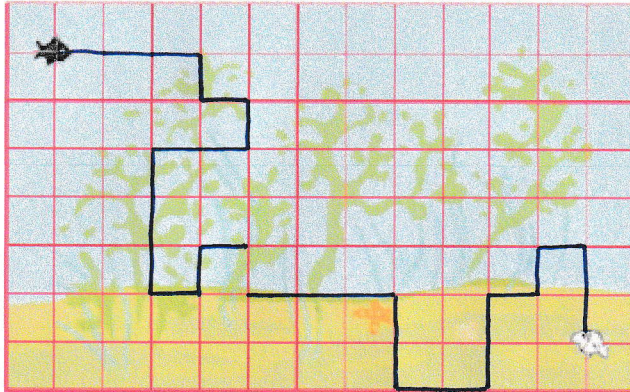



3  Observe les déplacements des poissons et dessine leurs chemins.

Poisson noir :

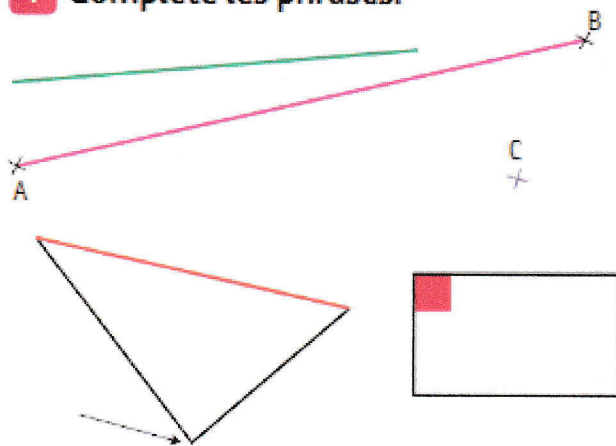


Poisson blanc :



Connaitre le vocabulaire géométrique

4 Complète les phrases.



- a. Je suis indiqué par une flèche, je suis *un sommet*
- b. Je suis en vert, je suis *une droite*
- c. Je suis en violet, je suis *un point*
- d. Je suis en rose, je suis *un segment*
- e. Je suis en rouge, je suis *un angle (droit)*
- f. Je suis en orange, je suis *un côté*