


Les nombres de 60 à 79

Je continue de m'entraîner

The background features several concentric circles of varying radii, some solid and some dashed, creating a ripple effect. A prominent red speech bubble is centered on the page, containing the text.

J'écris le nombre
qui manque

- Écris sur ton ardoise le nombre qui manque dans le bout de file numérique.



- Écris sur ton ardoise le nombre qui manque dans le bout de file numérique.




- Écris sur ton ardoise le nombre qui manque dans le bout de file numérique.



- Écris sur ton ardoise le nombre qui manque dans le bout de file numérique.




- Écris sur ton ardoise le nombre qui manque dans le bout de file numérique.




- Écris sur ton ardoise le nombre qui manque dans le bout de file numérique.



- Écris sur ton ardoise le nombre qui manque dans le bout de file numérique.




- Écris sur ton ardoise le nombre qui manque dans le bout de file numérique.



- Écris sur ton ardoise le nombre qui manque dans le bout de file numérique.



- Écris sur ton ardoise le nombre qui manque dans le bout de file numérique.



- Écris sur ton ardoise le nombre qui manque dans le bout de file numérique.



■ Écris sur ton ardoise le nombre qui manque dans le bout de file numérique.



J'écris le signe :

$>$ ou $<$ ou $=$

- Écris sur ton ardoise le plus grand des deux nombres.
Écris = si les deux nombres sont égaux.

76

78

- Écris sur ton ardoise le plus grand des deux nombres.
Écris = si les deux nombres sont égaux.

76

<

78

- Écris sur ton ardoise le plus grand des deux nombres.
Écris = si les deux nombres sont égaux.

70

72

- Écris sur ton ardoise le plus grand des deux nombres.
Écris = si les deux nombres sont égaux.

70

<

72

- Écris sur ton ardoise le plus grand des deux nombres.
Écris = si les deux nombres sont égaux.

67

61

- Écris sur ton ardoise le plus grand des deux nombres.
Écris = si les deux nombres sont égaux.

67

>

61

- Écris sur ton ardoise le plus grand des deux nombres.
Écris = si les deux nombres sont égaux.

7d 4u

7d 2u

- Écris sur ton ardoise le plus grand des deux nombres.
Écris = si les deux nombres sont égaux.

7d 4u > 7d 2u

- Écris sur ton ardoise le plus grand des deux nombres.
Écris = si les deux nombres sont égaux.

7 d 0 u

7 d 1 u

- Écris sur ton ardoise le plus grand des deux nombres.
Écris = si les deux nombres sont égaux.

7 d 0 u < 7 d 1 u

- Écris sur ton ardoise le plus grand des deux nombres.
Écris = si les deux nombres sont égaux.

7 d 7 u

7 6

- Écris sur ton ardoise le plus grand des deux nombres.
Écris = si les deux nombres sont égaux.

7 d 7 u > 7 6

- Écris sur ton ardoise le plus grand des deux nombres.
Écris = si les deux nombres sont égaux.

70 + 1 71

- Écris sur ton ardoise le plus grand des deux nombres.
Écris = si les deux nombres sont égaux.

$$70 + 1 = 71$$

- Écris sur ton ardoise le plus grand des deux nombres.
Écris = si les deux nombres sont égaux.

60 + 7 76

- Écris sur ton ardoise le plus grand des deux nombres.
Écris = si les deux nombres sont égaux.

$$60 + 7 < 76$$

- Écris sur ton ardoise le plus grand des deux nombres.
Écris = si les deux nombres sont égaux.

9 + 1 70

- Écris sur ton ardoise le plus grand des deux nombres.
Écris = si les deux nombres sont égaux.

$$9 + 1 < 70$$

- Écris sur ton ardoise le plus grand des deux nombres.
Écris = si les deux nombres sont égaux.

60 + 19

79

- Écris sur ton ardoise le plus grand des deux nombres.
Écris = si les deux nombres sont égaux.

$$60 + 19 = 79$$

- Écris sur ton ardoise le plus grand des deux nombres.
Écris = si les deux nombres sont égaux.

$$60 + 8$$

$$70 + 2$$

- Écris sur ton ardoise le plus grand des deux nombres.
Écris = si les deux nombres sont égaux.

$$60 + 8 < 70 + 2$$