
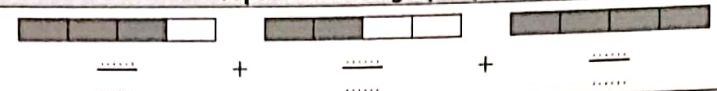
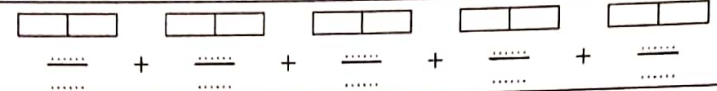
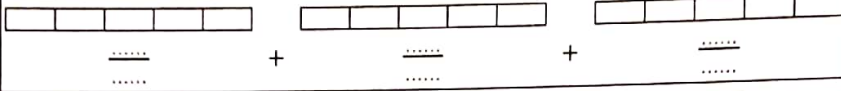
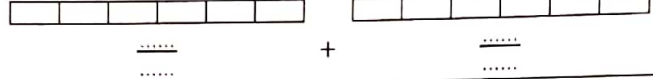


Fractions (3)

PRÉNOM :
NOM :


1 Observe l'exemple et complète le tableau.

Astuce
Colorie les bandes pour représenter la fraction.

	$\frac{7}{3}$		$= 2 + \frac{1}{3}$
code	fraction	représentation graphique	
a	$\frac{9}{4} =$		$= \dots + \dots$
b	$\frac{9}{2} =$		$= \dots + \dots$
c	$\frac{13}{5} =$		$= \dots + \dots$
d	$\frac{11}{6} =$		$= \dots + \dots$

2 Reporte les codes de l'exercice 1 puis colorie avec la couleur indiquée.

	BLEU	MARRON	VERT
fractions comprises entre...	1 et 2	2 et 4	4 et 5
code



Paysage typique, Hollande