

LE CODE

A TOI DE RETROUVER LE BON CODE POUR OUVRIR LE COFFRE-FORT !



0 7 9

AUCUN CHIFFRE CORRECT

4 0 2

DEUX CHIFFRES CORRECTS - MAL PLACÉS

3 4 5

UN SEUL CHIFFRE CORRECT - BIEN PLACÉ

8 7 0


UN SEUL CHIFFRE CORRECT - MAL PLACÉ

2 9 3

UN SEUL CHIFFRE CORRECT - BIEN PLACÉ

LES GARÇONS !

QUEL EST LE PRÉNOM DE CHAQUE GARÇON ?



CÉLIM ET ARTHUR ONT UNE ÉTOILE SUR LEURS VÊTEMENTS.
 BASILE N'A PAS LA BOUCHE FERMÉE.
 BASILE EST À DROITE DE CÉLIM ET ARTHUR.
 SI DAVID A LES CHEVEUX COUVERTS, ALORS CÉLIM AUSSI.

Attention ce ne sont pas les mêmes !


Énigme CM1

(Mais il n'est pas interdit de résoudre toutes les énigmes!)

Énigme CM2

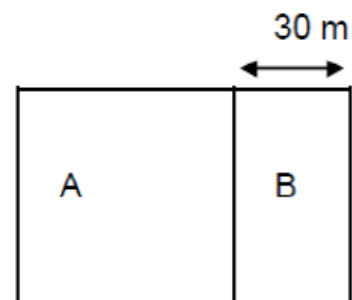
Les carrés sur la table

Sur une table, on a disposé des carrés et des triangles qui ne se touchent pas.
 On compte en tout 17 sommets.



Le champ de M. Martin

Monsieur Martin possède un champ carré A. Il achète un terrain voisin B, d'une aire de 2100 m² et d'une largeur de 30 m (voir le schéma). Calcule le périmètre du champ total (A et B réunis).



Combien y a-t-il de carrés ?