



Des produits à calculer

1 Lou, Sam et Flip ont cherché le résultat de 216×4 , voici leurs calculs :



$$\begin{array}{r} 2 \\ + 216 \\ + 216 \\ + 216 \\ + 216 \\ \hline 864 \end{array}$$

2 centaines
4 fois



1 dizaine
4 fois

6 unités
4 fois

4 dizaines


2 dizaines

24 unités

8 centaines

6 dizaines

4 unités



$$\begin{array}{r} 216 \\ \times 4 \\ \hline 864 \end{array}$$

	2	
c	d	u

Explique comment Lou, Sam et Flip ont fait leur calcul.

LOU :

.....

.....

.....

SAM :

.....

.....

.....

FLIP :

.....

.....

.....

2 En t'appuyant sur le résultat de 216×4 , calcule : $216 \times 40 = \dots\dots\dots$

3 Calcule avec la méthode de Flip.

a. $77 \times 5 = \dots\dots\dots$

b. $479 \times 20 = \dots\dots\dots$