

Des points, des droites et des segments (1)

1 Combien de droites passent par le point A et par un autre point de la figure ?



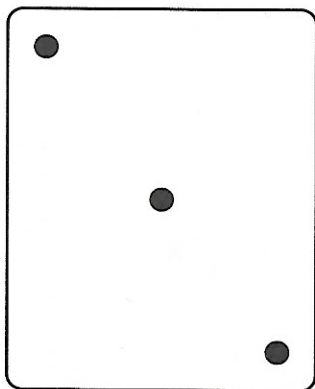


2 Combien de droites passent par le point B et par un autre point de la figure ?



Des points, des droites et des segments (2)

- 3 Lou a commencé à fabriquer des cartes « 3 », toutes identiques.
Place les points manquants.



- 4 Sam a commencé à fabriquer des cartes « 5 », toutes identiques.
Place les points manquants.

