




16

Un circuit électrique, comment ça marche ?

3



Dessine le schéma d'un circuit comprenant une lampe et un interrupteur.



4



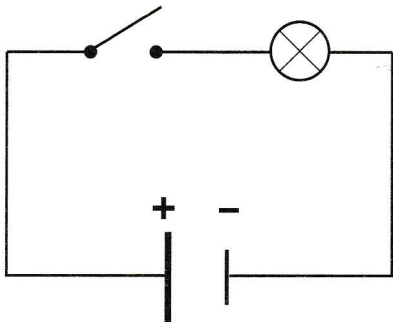
Observe ces deux schémas.

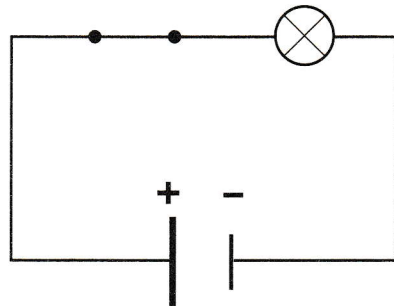


Colorie en jaune la lampe qui est allumée.



Écris sous chaque schéma la bonne légende : *circuit ouvert* ou *circuit fermé*.





5



Dessine ci-dessous le schéma d'un circuit électrique comprenant deux lampes en série.

