

- 1 Entoure : – en vert, les soustractions que tu vas faire de tête ;
– en bleu, celles que tu feras avec la méthode russe.

$60 - 20$

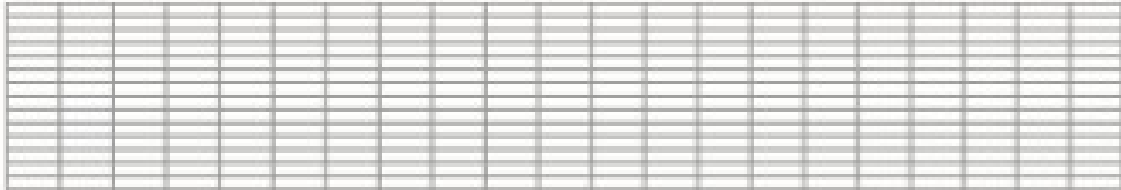
$62 - 15$

$78 - 18$

$84 - 19$

$67 - 3$

• Puis calcule-les.



$60 - 20 = \dots$

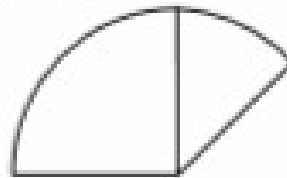
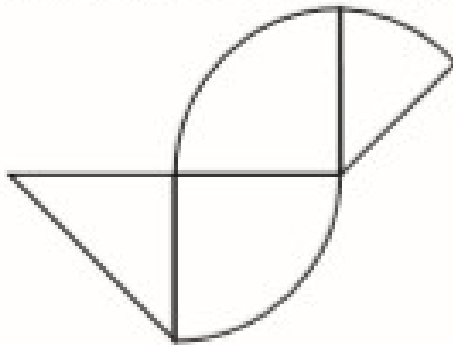
$62 - 15 = \dots$

$78 - 18 = \dots$


$84 - 19 = \dots$

$67 - 3 = \dots$

- 2 Réalise cet assemblage avec les pièces de ton matériel.
Termine la reproduction en utilisant les pièces comme gabarits.



- 3 Écris le score de Nora.



- 4 a. 3 centaines, 8 dizaines et 6 unités,
c'est unités.
b. 6 dizaines, 2 centaines et 8 unités,
c'est unités.
c. 9 unités, 6 dizaines et 3 centaines,
c'est unités.

- 5 Sur cette droite graduée de 10 en 10, écris les dizaines qui manquent.



• Écris chaque nombre à sa place : 388 362 342 325 396 316.