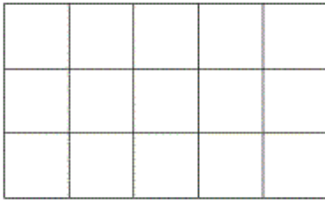


Les aires



Un carreau mesure 1 cm de côté. Un carreau a pour aire 1 cm².

Ce rectangle mesure 5 cm de longueur et 3 cm de largeur.

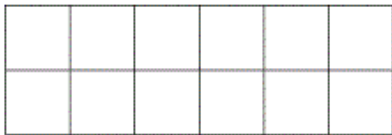
Pour calculer l'aire de ce rectangle, on multiplie la longueur par la largeur.

Aire du rectangle : $L \times l$

$$5 \times 3 = 15 \text{ cm}^2.$$

Indique l'aire des figures suivantes, en laissant apparaître tes calculs.

1)



Calculs :

Aire : cm².


2)



Calculs :

Aire : cm².


3)



Calculs :

Aire : cm².

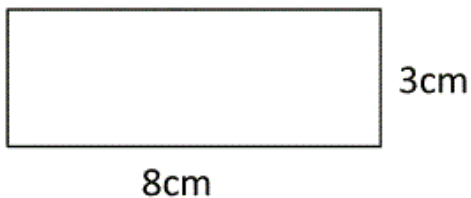
4)



Calculs :

Aire : cm².

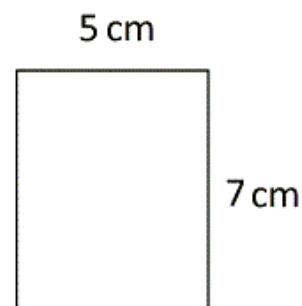
1)



Calculs :

Aire : cm².

2)



Calculs :

Aire : cm².