



CONNAÎTRE LES UNITÉS DE DURÉES ET LEURS ÉQUIVALENCES

1 Relie les étiquettes à l'unité dans laquelle on mesure leur durée.

une chanson

le trajet Paris-Nice en train

la sonnerie du réveil

se laver les dents

une journée de classe

heures

minutes

secondes

2 Entoure la bonne réponse.

- 1 heure correspond à : 60 secondes 60 minutes 120 minutes
- 60 secondes, c'est aussi : 1 minute 1 heure 1 journée
- Dans une journée, il y a : 12 heures 60 heures 24 heures

LIRE L'HEURE


3 Colorie de la même couleur les horloges qui indiquent les mêmes heures.



5:30




10:15




9:20

2:00



1:45








7:55



4 Place l'aiguille manquante sur chaque horloge.

Il manque l'aiguille des heures.

Il manque l'aiguille des minutes.



2:40

10:15

7:30

4:10

12:50

9:35

CONVERTIR LES UNITÉS DE DURÉES

5 Place les nombres suivants.

120	180	480	540	420	240	300	360	600
-----	-----	-----	-----	-----	-----	-----	-----	-----

3 h = min

2 min = s

10 min = s

9 min = s

5 h = min

6 h = min

4 h = min

8 h = min

7 min = s