




**IDENTIFIER DES RECTANGLES**

① Colorie seulement les rectangles puis répons à la question.




→ Comment les as-tu identifiés ?

Les rectangles ont 4 côtés et 4 sommets.

Ils ont 4 angles droits et les côtés opposés sont de même longueur.  
 "en face"

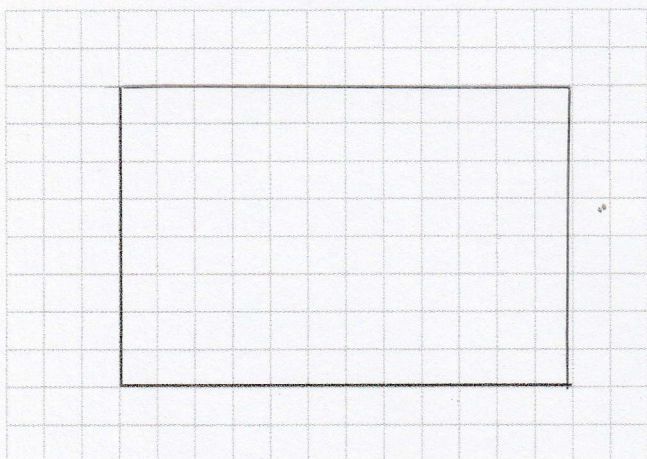
② Observe ce rectangle et complète le tableau.



	Nombre d'angles droits	Mesure des côtés	
		Longueur	Largeur
ABCD	<u>4</u>	AB : <u>6 cm 5 mm</u> CD : <u>6 cm 5 mm</u>	BD : <u>3 cm 5 mm</u> AC : <u>3 cm 5 mm</u>

**TRACER DES RECTANGLES**

③ Termine de tracer ce rectangle.



④ Trace un rectangle EFGH  
 [EF] = 7 carreaux [FG] = 12 carreaux

