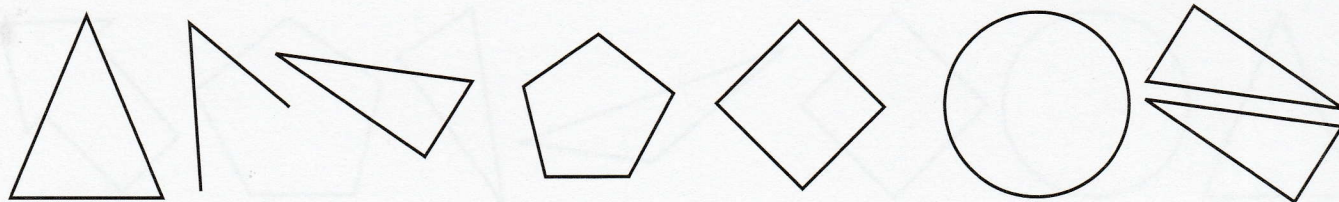



IDENTIFIER DES TRIANGLES

➊ Colorie uniquement les triangles.



DÉCRIRE UN TRIANGLE

➋ Décris ce triangle en utilisant les mots : rectangle, sommets, côtés et angle droit.

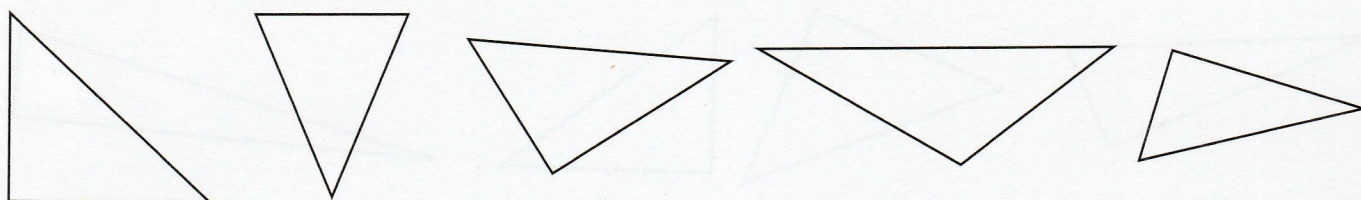


Ce triangle a et

C'est un triangle car il a un

IDENTIFIER UN TRIANGLE RECTANGLE


➌ Colorie seulement les triangles rectangles.



TRACER UN TRIANGLE RECTANGLE

➍ Trace un triangle ABC.

Le segment AB mesure 8 cm.



➎ Trace un triangle rectangle DEF.

Les côtés de l'angle droit mesurent 5 cm et 4 cm.

