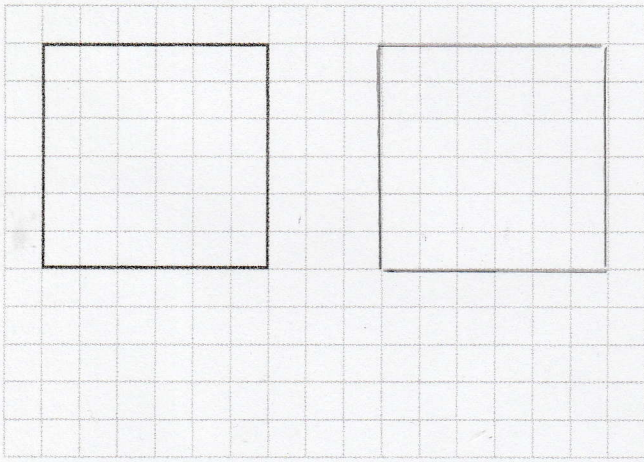



⑤ Reproduis ce carré.



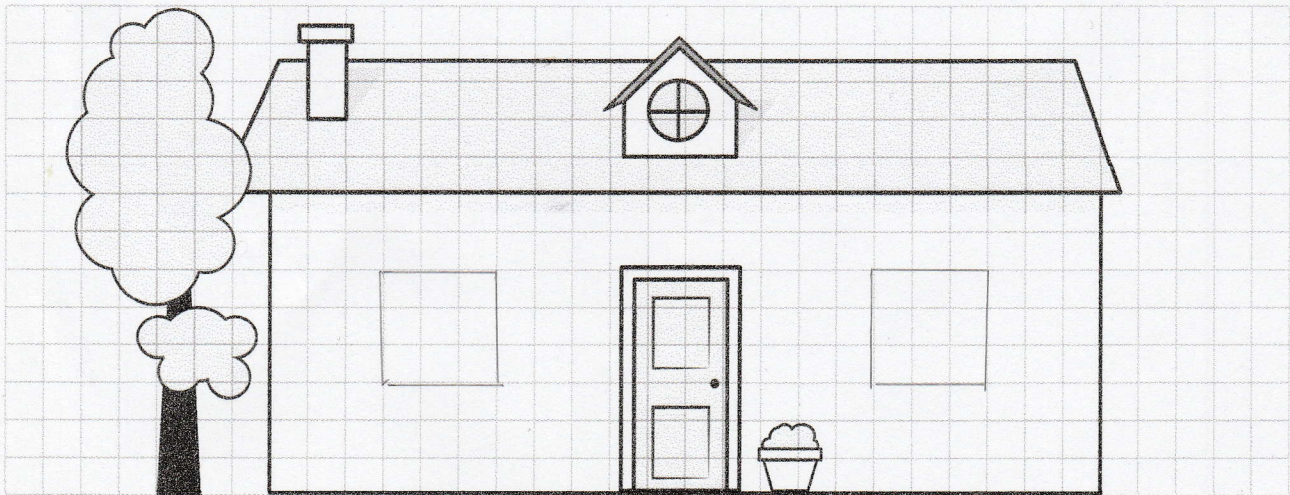

⑥ Trace un carré mesurant 5 cm de côté.



LES MATHS DANS LA VIE

- ⑦ Serais-tu un bon architecte ?
La famille Martin veut deux fenêtres à sa maison. Il faut absolument qu'elles soient carrées et de la même taille !
Ajoute les fenêtres à la maison des Martin.

Attention, un bon architecte utilise des outils de géométrie pour être bien précis !



DÉFI

- ⑧ Trace un trait pour obtenir deux carrés.

