




IDENTIFIER DES CARRÉS

① **Colorie** seulement les carrés puis **complète** les phrases.




→ Comment les as-tu identifiés ?

Les carrés ont 4 côtés et 4 sommets.

Ils ont 4 angles droits et leurs côtés sont de la même longueur


② **Observe** ce carré et **complète** le tableau.



	Nombre d'angles droits	Mesure des côtés	
		Longueur	Largeur
ABCD	4	AB : 5 cm CD : 5 cm	BC : 5 cm AD : 5 cm

TRACER DES CARRÉS

③ **Termine** de tracer ce carré.



④ **Trace** un carré EFGH.
Ses côtés font 8 carreaux.

