

LEÇON

Identifier et tracer des carrés

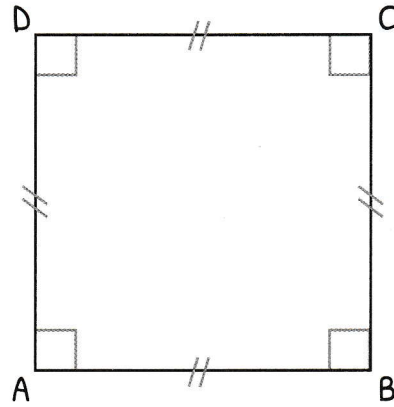
► Le carré est un **quadrilatère** particulier.

► **Le carré a :**

- 4 angles droits,
- 4 sommets,
- 4 côtés de même longueur.


► **Pour tracer un carré :**

- ① Tracer un segment.
- ② Tracer deux angles droits en utilisant l'équerre.
- ③ Mesurer les segments : ils doivent faire la même mesure que [AB].
- ④ Relier les deux points et vérifier les mesures.




CARTE MENTALE

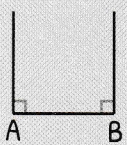
Tracer un carré



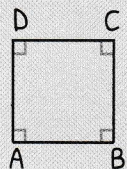
① Tracer un segment.



② Tracer deux angles droits.



③ Mesurer les segments = à [AB].



④ Relier les deux points.

Propriétés

- 4 angles droits
- 4 sommets
- 4 côtés de même longueur

IDENTIFIER ET TRACER DES CARRÉS

Famille

Le carré appartient à la famille des quadrilatères.



un carré



un rectangle

Exemples

