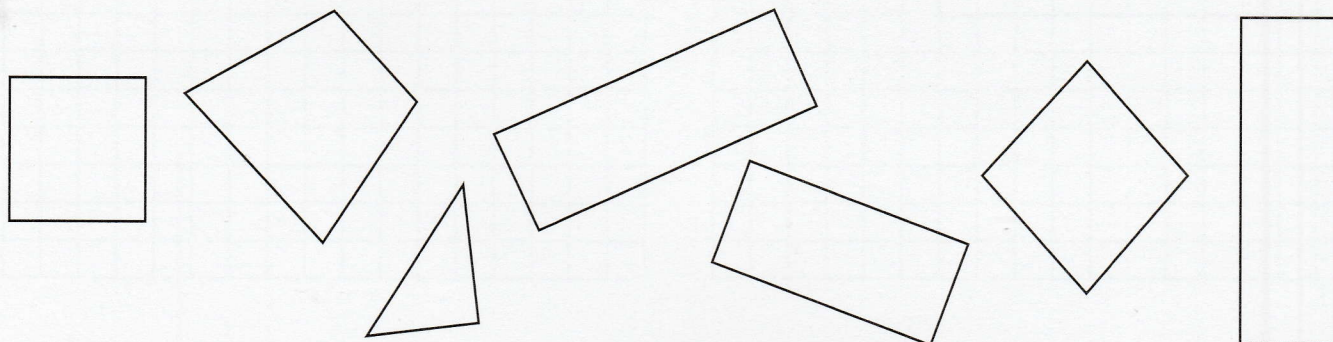




## IDENTIFIER ET TRACER DES RECTANGLES

### IDENTIFIER DES RECTANGLES

① **Colorie** seulement les rectangles puis **réponds** à la question.




→ Comment les as-tu identifiés ?

Les rectangles ont ..... côtés et ..... sommets.

Ils ont 4 angles ..... et les côtés opposés sont de même .....


② **Observe** ce rectangle et **complète** le tableau.



|      | Nombre d'angles droits | Mesure des côtés         |                          |
|------|------------------------|--------------------------|--------------------------|
|      |                        | Longueur                 | Largeur                  |
| ABCD | .....                  | AB : .....<br>CD : ..... | BD : .....<br>AC : ..... |

### TRACER DES RECTANGLES

③ **Termine** de tracer ce rectangle.



④ **Trace** un rectangle EFGH

[EF] = 7 carreaux [FG] = 12 carreaux

