

JE ME TESTE ①

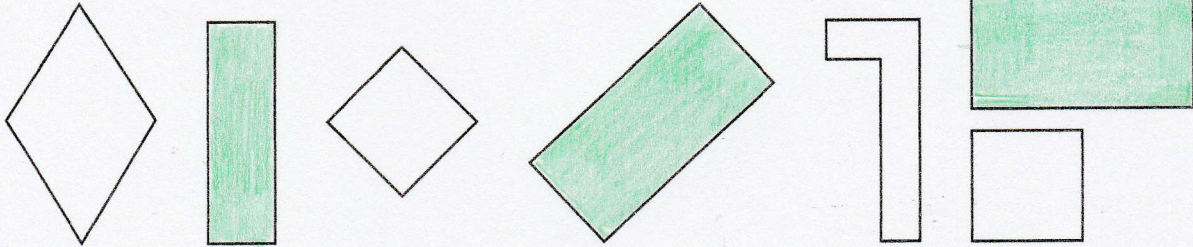
Prénom

Date

IDENTIFIER ET TRACER DES RECTANGLES

IDENTIFIER DES RECTANGLES

1 Colorie uniquement les rectangles.




DÉCRIRE UN RECTANGLE

2 Repasse les côtés en rouge, marque les angles droits en bleu et complète les phrases.

Les segments $[AB]$ et $[CD]$ sont de la même longueur.

Les segments $[AC]$ et $[BD]$ sont de la même longueur.

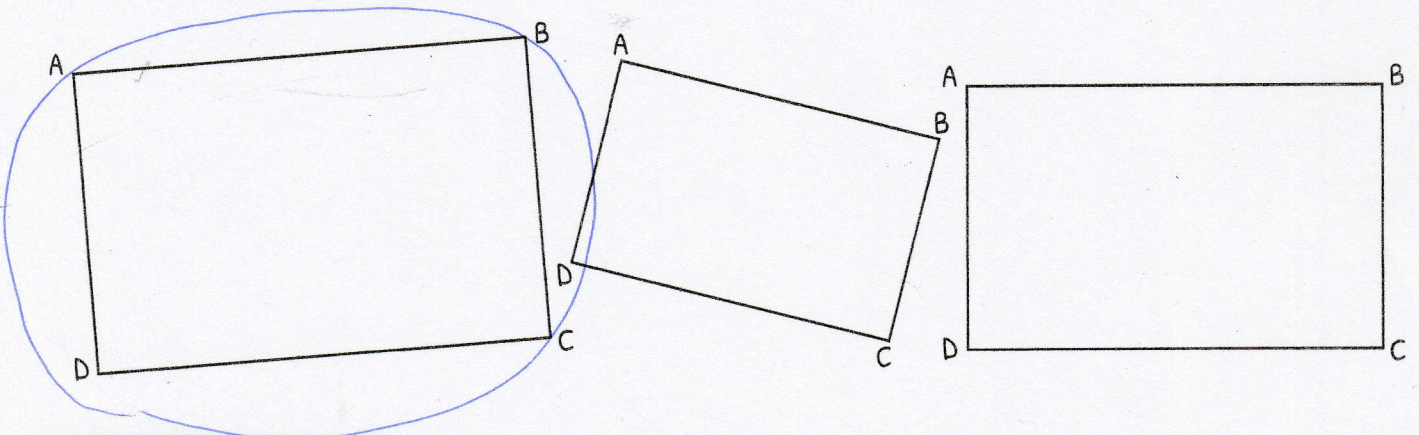


IDENTIFIER DES RECTANGLES

3 Entoure le rectangle qui correspond à la description :

AB et CD mesurent 6 cm.

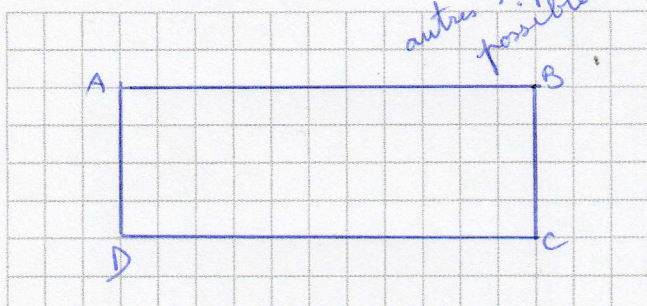
AD et BC mesurent 4 cm.



TRACER DES RECTANGLES

4 Trace un rectangle ABCD.

autres réponses possibles



5 Termine le rectangle EFGH.

