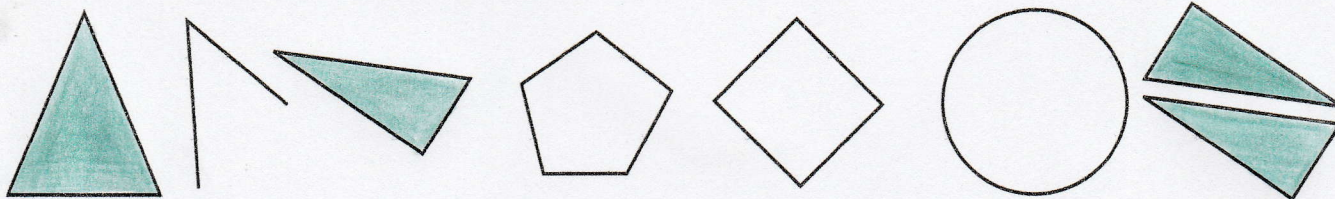



## IDENTIFIER DES TRIANGLES

1 Colorie uniquement les triangles.



## DÉCRIRE UN TRIANGLE

2 Décris ce triangle en utilisant les mots : rectangle, sommets, côtés et angle droit.

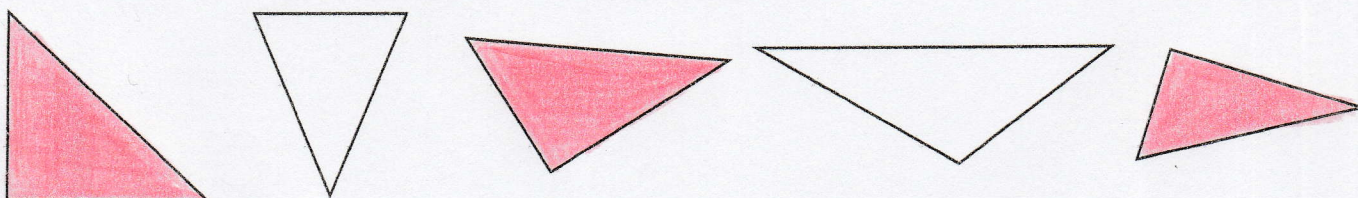


Ce triangle a 3 côtés et 3 sommets.

C'est un triangle rectangle car il a un angle droit.

## IDENTIFIER UN TRIANGLE RECTANGLE

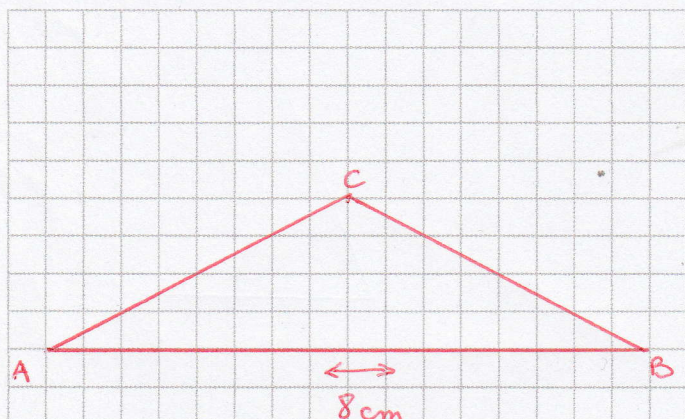
3 Colorie seulement les triangles rectangles.



## TRACER UN TRIANGLE RECTANGLE

4 Trace un triangle ABC.

Le segment AB mesure 8 cm.



5 Trace un triangle rectangle DEF.

Les côtés de l'angle droit mesurent 5 cm et 4 cm.

