

8

Comment vivent les êtres vivants ensemble ?

Prénom : Date :



Fiche élève 2

1 *ae* Complète ce texte avec les mots suivants :
végétariens – omnivores – carnivores – régime alimentaire.

Tous les animaux n'ont pas le même régime alimentaire :

- les carnivores mangent d'autres animaux ;
- les végétariens mangent des végétaux ;
- les omnivores mangent des végétaux et des animaux.

2 *oe* a. Observe ce que mangent ces animaux de la forêt.



ae b. Complète comme dans l'exemple.
Chaque flèche (→) signifie « ... est mangé par... ».

Mûres → Campagnol

Campagnol → chouette

Lapin → renard


Gland → écureuil

Feuille → escargot

Escargot → hérisson

Ver de terre → taupe

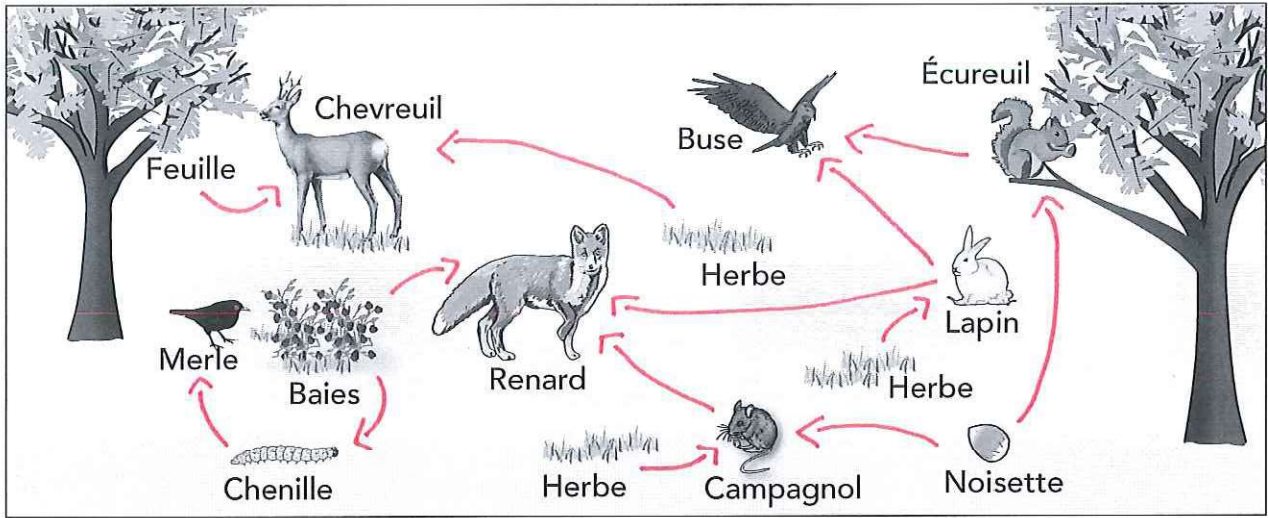
Herbe → lapin



8

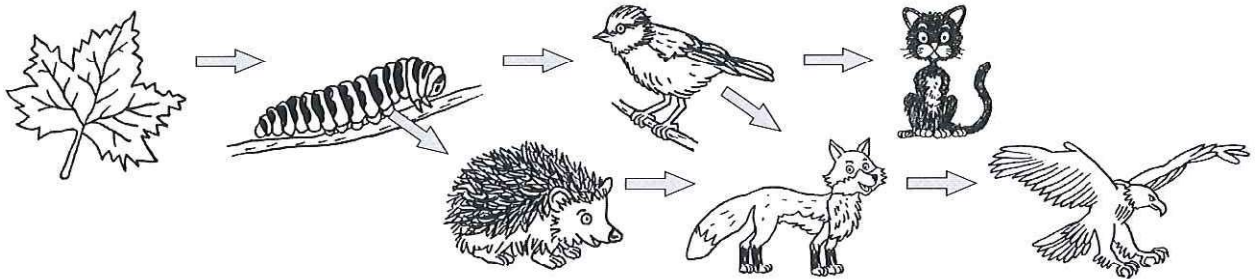
Comment vivent les êtres vivants ensemble ?

3 👁️ Observe ce dessin et trace des flèches (→).
Chaque flèche signifie « est mangé par ».



4 👁️ Quand les êtres vivants sont mangés les uns par les autres, cela forme une chaîne alimentaire.

✍️ Écris les trois chaînes alimentaires illustrées par ce schéma.



feuille → chenille → mésange → renard → buse

feuille → chenille → hérisson → renard → buse

feuille → chenille → mésange → chat → /

5 ✍️ Complète ce texte avec les mots suivants : un végétal – une chaîne alimentaire.

Les êtres vivants mangés les uns par les autres forment une
chaîne alimentaire. À la base d'une chaîne alimentaire,
 on trouve toujours un végétal.