

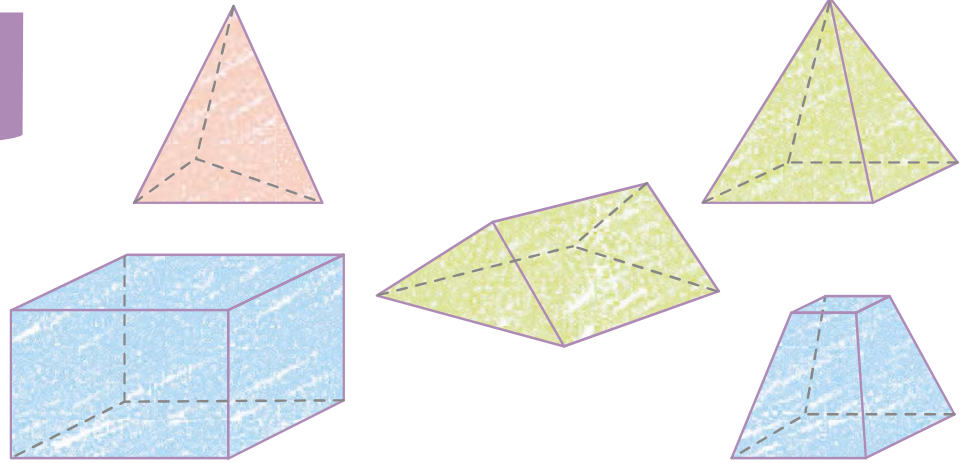

1 Colorie les solides selon le code couleur.

4 faces rouge

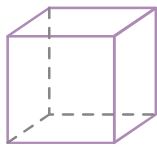
5 faces vert

6 faces bleu

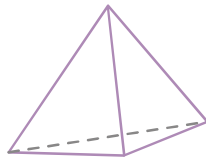
Les lignes pointillées t'aident à observer les arêtes et les faces cachées.



2 Observe bien ces solides et complète le tableau.



A




B



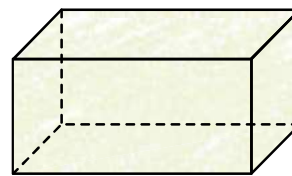
C

	Faces	Arêtes	Sommets
A	6	12	8
B	4	6	4
C	6	12	8

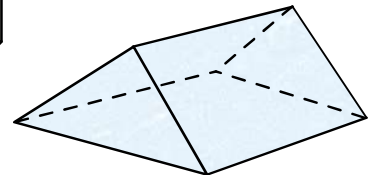


3 Colorie chaque solide et sa description d'une même couleur.

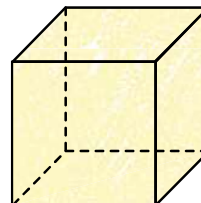
J'ai 12 arêtes de même mesure. Mes faces sont toutes carrées. Je suis **un cube**.



J'ai 4 faces triangulaires et 1 face carrée. Je suis **une pyramide**.



J'ai 2 faces triangulaires, 3 faces rectangulaires, 6 sommets et 9 arêtes. Je suis **un prisme**.



J'ai 6 faces. 2 de mes faces opposées sont carrées. Les autres sont rectangulaires. Je suis **un pavé droit**.

