




Longévité 1



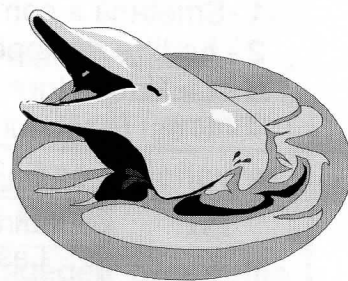
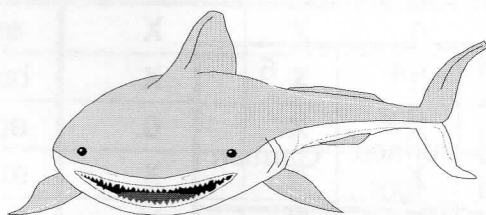
- A - Le singe vit plus longtemps que le zèbre mais moins que l'éléphant.
- B - Le plus gros animal n'a pas la longévité la plus importante.
- C - C'est un mammifère qui a l'espérance de vie la plus courte.

	25 ans	40 ans	70 ans	100 ans
singe	X	0	X	X
cygne	X	X	X	0
zèbre	0	X	X	X
éléphant	X	X	0	X

	longévité
singe	40 ans
cygne	100 ans
zèbre	25 ans
éléphant	70 ans

Longévité 2

- A - C'est un animal marin qui a la durée de vie la plus longue.
- B - Le requin vit plus longtemps que le dauphin mais moins que la baleine.
- C - Le blaireau a une longévité supérieure à celle du loup.
- D - Le requin peut espérer vivre 15 ans de plus que le dauphin.
- E - Le dauphin peut vivre plus de dix ans.



	10 ans	15 ans	25 ans	40 ans	80 ans
blaireau	X	0	X	X	X
requin	X	X	X	0	X
dauphin	X	X	0	X	X
baleine	X	X	X	X	0
loup	0	X	X	X	X

	longévité
blaireau	15 ans
requin	40 ans
dauphin	25 ans
baleine	80 ans
loup	10 ans