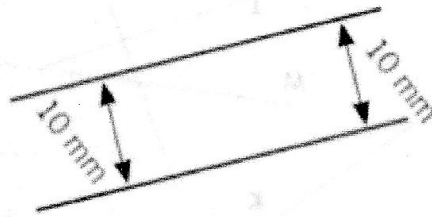



Les droites parallèles et perpendiculaires.

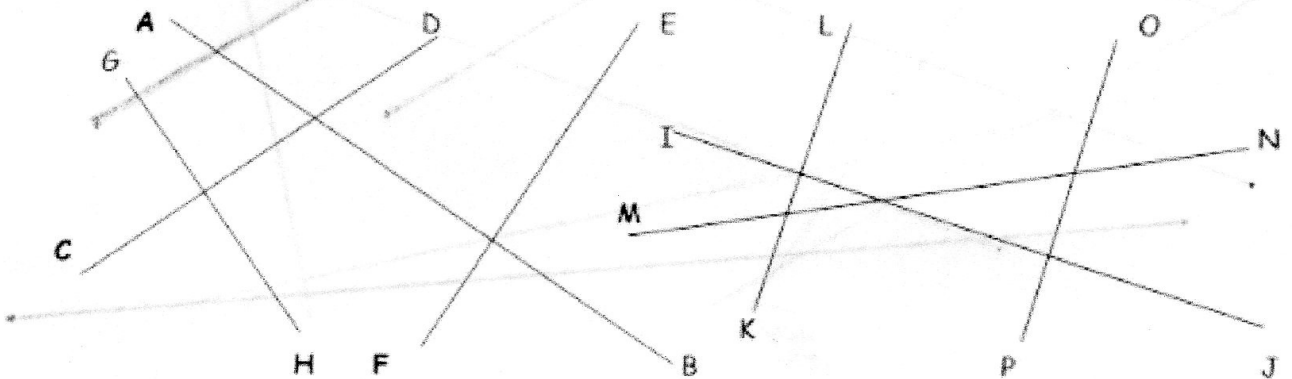
DEUX DROITES PARALLELES sont des droites **qui ne se couperont jamais** car l'écart entre elles deux sera toujours le même.



DEUX DROITES PERPENDICULAIRES sont des droites **qui se coupent en formant un angle droit.**



1. Quelles sont les droites perpendiculaires ?



(AB) et (EF) / (GH) et (CD)

(IJ) et (LK) / (IK) et (OP)

2. Retrouve les 2 angles droits cachés dans cette figure.

