

Programme de la journée

du lundi 11 mai 2020 : CM1

Voici les activités que vous pouvez réaliser chez vous.

✓ Je lis :

Louis XVI est né le 23 août 1754 à Versailles et mort guillotiné le 21 janvier 1793 à Paris. IL est roi de France et de Navarre de 1774 à 1791, puis roi des Français de 1791 à 1792. Il est le dernier roi de France de la période dite de l'Ancien Régime.



❖ Dictée (semaine 2 - période 5) :

Louis XVI convoquait les états généraux en mille-sept-cent-vingt-huit, car les récoltes étaient mauvaises, et l'état n'avait plus assez d'argent.

❖ Mathématiques : calcul mental

Calculer le tiers. L'enseignant dit : « Quel est le tiers de... ? »

3 - 27 - 18 - 12 - 24 - 30 - 33 - 15 - 60 - 9

Réponses : 1 - 9 - 6 - 4 - 8 - 10 - 11 - 5 - 20 - 3

❖ Mathématiques : grandeurs et mesures

Calculer et comparer les périmètres des polygones

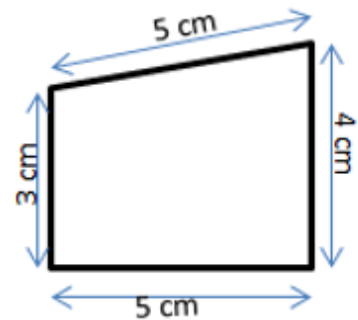
✓ Je découvre la leçon : « calculer le périmètre d'un polygone ».

La longueur du contour d'une figure s'appelle le **périmètre**.

On **calcule le périmètre** d'un polygone en additionnant **la longueur de tous ses côtés** :

$$P = 5 + 4 + 5 + 3 = 17$$

Le périmètre de ce polygone est de 17 cm.

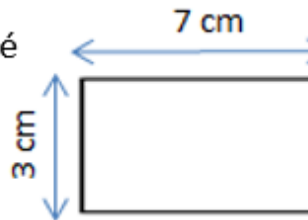


Pour certains polygones, on utilise des **formules** pour simplifier les calculs.



Périmètre du carré

$$\begin{aligned} &\text{Côté} \times 4 \\ &c \times 4 \\ &3 \times 4 = 12 \text{ cm} \end{aligned}$$

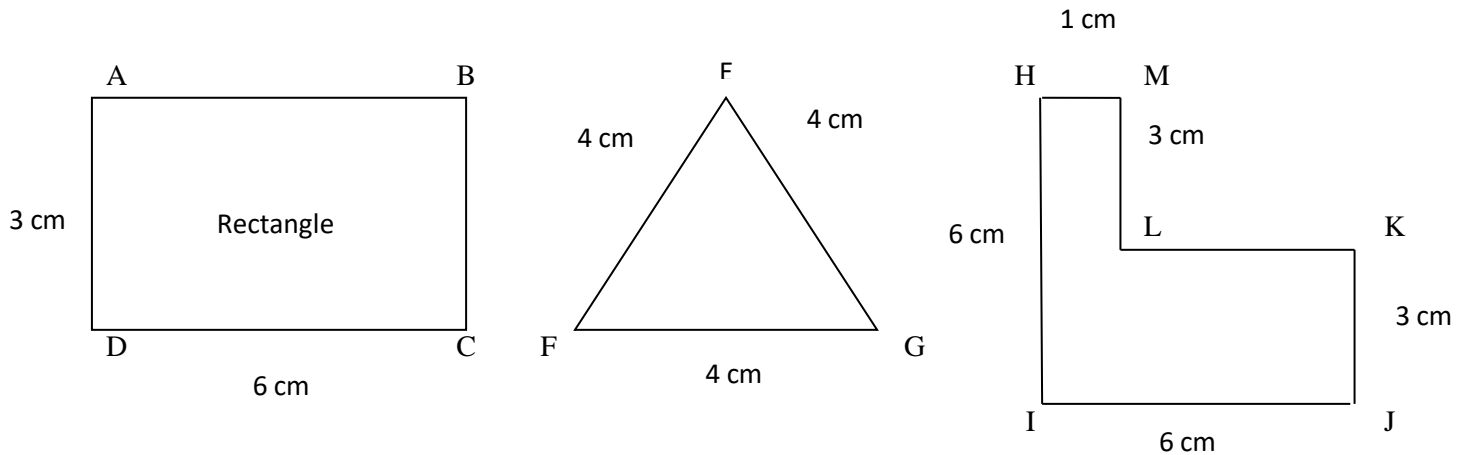


Périmètre du rectangle

$$\begin{aligned} &(\text{Longueur} + \text{largeur}) \times 2 \\ &(L + l) \times 2 \\ &(7 + 3) \times 2 = 20 \text{ cm} \end{aligned}$$

✓ Je m'entraîne :

1) Calcule le périmètre de chacune des figures suivantes.



Le périmètre de ABCD est égal à _____ cm.

Le périmètre de EFG est égal à _____ cm.

Le périmètre de HIJKLM est égal à _____ cm.

2) Réponds aux questions:

- Quel est le périmètre d'un carré qui a 4 cm de côté ?
- Quel est le périmètre d'un carré qui a 8 cm de côté ?
- Quel est le périmètre d'un rectangle qui a pour longueur 9 cm et pour largeur 4 cm ?
- Quel est le périmètre d'un rectangle qui a pour longueur 10 cm et pour largeur 9 cm ?

❖ Conjugaison

Le passé composé.

✓ Je relis la leçon et je retiens :

- **Le passé composé** est formé de deux mots :
 - **L'auxiliaire avoir** conjugué au présent et le participe passé :
*j'ai chanté, tu as chanté, il/elle/on a chanté,
nous avons chanté, vous avez chanté, ils/elles ont chanté*
 - **L'auxiliaire être** conjugué au présent et le participe passé :
*je suis arrivé(e), tu es arrivé(e), il/elle/on est arrivé(e)
nous sommes arrivé(e)s, vous êtes arrivé(e)s, ils/elles sont arrivé(e)s*
- Avec **l'auxiliaire avoir**, le participe passé ne s'accorde pas avec le sujet.
Ils ont mangé. Il a mangé.
- Avec **l'auxiliaire être**, le participe passé s'accorde toujours avec le sujet.
Elles sont parties. Elle est partie.

✓ Je m'entraîne :

1) Complète les phrases avec le pronom personnel qui convient.

- a)ai fait les courses.
- b) avons acheté la farine.
- c) As-..... trouvé la recette ?
- d) N'ont-..... pas oublié la pincée de sel ?

2) Complète les phrases avec l'auxiliaire être au présent.

- a) Obélix n' Pas tombé dans la marmite.
- b) Je allée chercher le pain.
- c) - elles venues vous rendre visite ?
- d) Vous restés auprès de vos amis.

3) Ecris les verbes au passé composé.

- a) je prépare
- b) tu manges
- c) il débarrasse
- d) nous lavons
- e) vous rangez
- f) ils finissent

g) je confonds

h) tu prends

i) elle dort

j) nous mettons

k) vous voyez

l) ils font