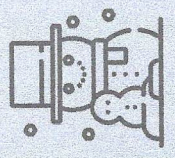



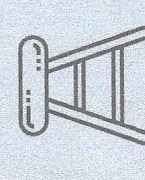












1 - Imagine l'objet ou l'animal en taille réelle et entoure la bonne réponse.

		
1 m	15 cm	2 cm
1 cm	15 m	2 m
		
3 cm	45 cm	14 cm
3 m	45 m	14 m
		
1 m	10 m	1 m
6 m	1 m	3 m
25 m	40 m	20 m

2 - Imagine l'objet ou l'animal en taille réelle et entoure la bonne réponse.

					
2 cm	20 cm	20 m	2 m	20 cm	2 m
4 cm	24 cm	40 m	4 m	13 cm	250 m
15 cm	15 m	500 cm	50 m	16 cm	25 m
25 cm	25 cm	1 cm	1 cm	50 cm	50 cm

3 - Complète.

- 1 m 28 cm = **128** cm
- 1 m 40 cm = ..... cm
- 3 m 50 cm = ..... cm
- 2 m 34 cm = ..... cm
- 6 m 9 cm = ..... cm
- 5 m 21 cm = ..... cm
- 4 m 8 cm = ..... cm

4 - Entoure chaque fois la longueur la plus grande.  
Entoure les deux longueurs si elles sont égales.

3 cm	10 cm	10 cm	1 m
1 m	50 cm	130 cm	1 m 3 cm
200 cm	2 m	40 cm	4 m

5 - Range les longueurs de la plus petite à la plus grande.

10 m < 1 cm < 25 m < 25 cm < 1 m < 2 m 50 cm < 125 cm

1 cm < ..... < ..... < ..... < ..... < .....