



La tour Eiffel

CAHIER JOURNAL A DISTANCE n°3

Classe de CM1-CM2

École de Genouillac

Commune de Terres de Haute-Charente

CM2



La cité fortifiée de Carcassonne

Prénom :

Le défi du jour : En classe, nous avons découvert la phrase suivante : « **Servez un whisky à ces deux petits juges blonds qui fument.** »

La particularité de cette phrase est qu'elle contient toutes les lettres de l'alphabet.

A toi de jouer : **imagine et écris une phrase qui contient toutes les lettres de l'alphabet.**

Conjugaison : Transforme chaque phrase aux temps demandés

L'athlète lance son javelot.

Futur :

Imparfait :

Passé composé :

Passé simple :

Le navigateur voyait une île.

Présent :

Futur:

Passé composé :

Passé simple :

Lexique: Il manque le même mot dans ces phrases. Trouve le mot.

Série n°1 :

- Tous les matins, Anaïs se coiffe devant la _____ de sa salle de bains.
- Mes parfums de _____ préférés sont le chocolat et la framboise.
- Au pôle nord, les explorateurs doivent briser la _____ pour pêcher.
- Malgré sa colère, il resta de _____ et ne prononça aucune parole.

Le mot manquant dans les 4 phrases est :

Série n°2 :

- a) Le triangle est une figure géométrique à trois .
- b) De quel vas-tu ? A droite ou à gauche ?
- c) Il a fini la course avec un point de .
- d) Timéo habite à de chez moi.

Le mot manquant dans les 4 phrases est :

Lecture : Lis attentivement la fin de « La malédiction du prince » (page 48 à page 61), puis réponds aux questions

Tu peux répondre aux questions sur la fiche déjà imprimée dans ta chemise « maison ».

1. Quelle malédiction plane sur le prince Braelig ?

- Au jour de sa 12ème année, le prince perdra toute sa famille et tous ses proches.
- Au jour de sa 12ème année, sa sœur va le noyer dans les douves.
- Au jour de sa 12ème année, le prince subira une épreuve terrible et passera dans l'autre monde.
- Au jour de sa 12ème année, le prince sera transformé en dragon avide d'or.

2. Que fait Julien pour aider le prince ?

- Il fait appel aux jumeaux Pierre et François.
- Il prend la place du prince dans le livre et subit l'épreuve à sa place.
- Il lit tout le livre et trouve la solution à l'épreuve.
- Il envoie sa sœur dans le livre pour donner des conseils au prince.

3. Quel cadeau est fait au prince le jour de son anniversaire ?

- Un casque surmonté de grandes plumes.
- Une longue hallebarde à la lame dorée.
- Une très belle horloge.
- Un magnifique cheval à la robe noire.

4. Quelle épreuve doit affronter le prince Braelig (pour tenir la promesse faite à sa sœur) ?

- Il doit chevaucher un fougueux étalon noir.
- Il doit vaincre le sorcier du royaume.
- Il doit traverser les douves à la nage.
- Il doit tirer un feu d'artifice.

5. Le chapitre 19 s'intitule « Un monstre ». Qui est le monstre ?

- Une carpe.
- Un dragon.
- Une baleine.
- Un vampire.

6. Grâce à quel objet Julien réussit-il l'épreuve ?

- Une paire de palmes.
- La carte postale de sa tante Jeannick.
- Une bouée pour enfant.
- Un arc et des flèches.

7. Quel objet est la seule preuve pour Julien et Morgane qu'ils n'ont pas rêvé ?

- Le médaillon royal.
- La carte postale.
- Le livre.
- Le cheval.

Mathématiques :

Écris ces nombres décimaux sous la forme d'une écriture fractionnaire.

$$4,25 = 4 + 2/10 + 5/100$$

$$3,75 =$$

$$10,69 =$$

$$8,05 =$$

$$6,2 =$$

$$2,104 =$$

Donne une écriture à virgule.

$$1 + 2/10 + 5/100 = 1,25$$

$$4 + 9/10 + 3/100 =$$

$$13 + 2/10 + 5/100 =$$

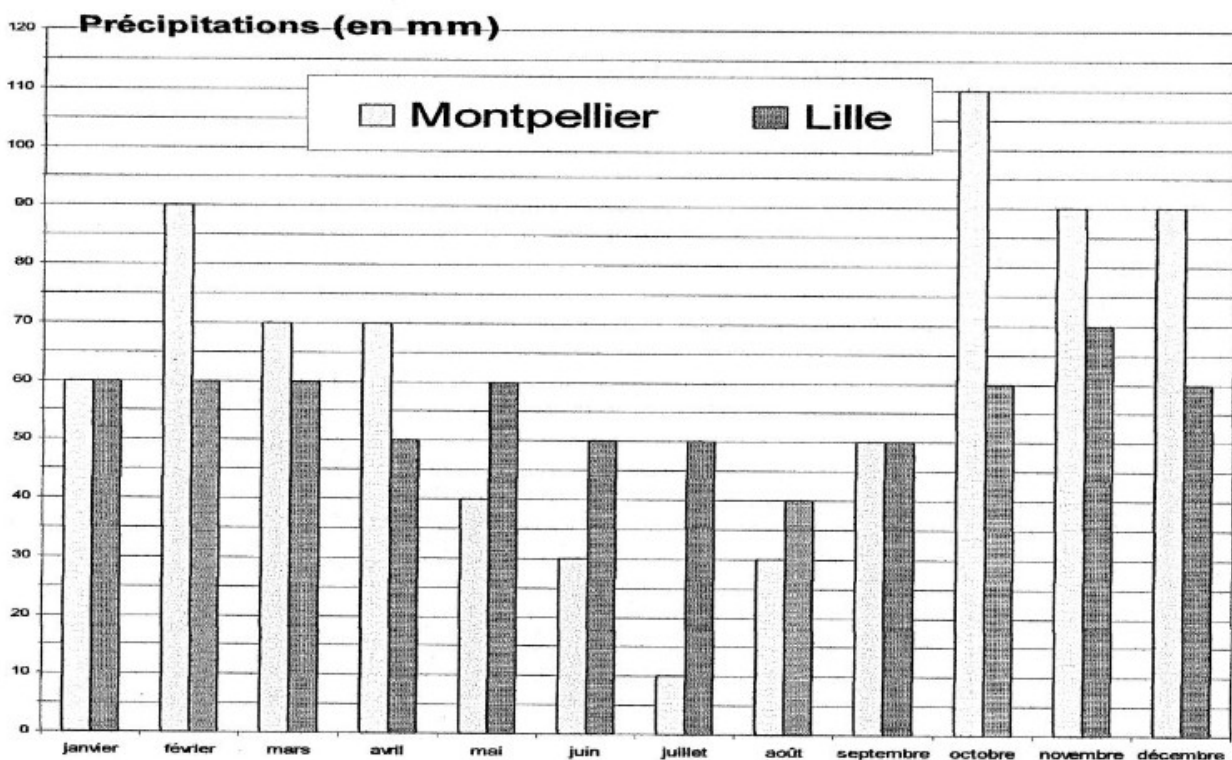
$$14 + 5/10 =$$

$$1 + 4/100 =$$

$$8 + 1/10 + 7/100 + 5/1000 =$$

Voici l'histogramme des précipitations* mensuelles dans 2 villes de France : Lille et Montpellier

* Précipitation : Quantité de pluie tombée.



Réponds aux questions

Combien de mm d'eau est-il tombé à Montpellier en mars ?	
Combien de mm d'eau est-il tombé à Lille en octobre ?	
Au cours de quel mois a-t-il le plus plu à Montpellier ?	
Au cours de quel mois a-t-il le moins plu à Montpellier ?	
Au cours de quel mois a-t-il le plus plu à Lille ?	
Au cours de quel mois a-t-il le moins plu à Lille ?	
Au cours de quels mois a-t-il plus autan à Lille qu'à Montpellier ?	

Calcule combien de précipitations il est tombé à Montpellier pendant toute l'année.

(Écris tes calculs).

Calcule combien de précipitations il est tombé à Lille pendant toute l'année.

(Écris tes calculs).

Géométrie / Géographie :

Réalise les 2 programmes de construction (fiches CT2 et CT3 dans ta chemise « maison ») sur les cartes au trésor.







CT2 : Dans quel pays se trouve le trésor ?

CT3 : Dans quel pays se trouve le trésor ?

Histoire de l'art : Trouve le nom de chacune de ces œuvres architecturales, puis écris le nom de la période historique à laquelle elle a été réalisée.

Œuvres architecturales : Viaduc de Millau - Arènes de Nîmes – Cité fortifiée de Carcassonne – Château de Versailles - Alignement de menhirs de Carnac – Tour Eiffel

Périodes historiques : Préhistoire – Antiquité – Moyen Age – Temps Modernes – XIXème siècle – Époque contemporaine

	Nom de l'œuvre architecturale	Période historique
		
		
		
		
		
		

Musique : Ho Hey

Écoute la chanson « Ho hey » en cliquant sur le lien suivant :

<https://www.youtube.com/watch?v=UfUIx8fQsJk>

Tu peux chanter avec Laurent Lamarca en t'aidant des paroles (dans ton cahier culturel).

