



Les arènes de Nîmes

CAHIER JOURNAL A DISTANCE n°2

Classe de CM1-CM2
École de Genouillac
Commune de Terres de Haute-Charente
CM2



Le viaduc de Millau

Prénom :

Le défi du jour : Le compte est bon

Retrouve **611** en utilisant les nombres : 1 2 3 6 50

Écrire : Complète ton portrait chinois

Attention, ne choisis pas tes préférés, mais les choses dont tu penses qu'elles te représentent bien !

Exemple : si tu étais un animal, tu serais une girafe, parce que tu es déjà la plus grande de la famille, même si ton animal préféré est le chien !

Si j'étais un animal, je serais

Si j'étais un objet, je serais

Si j'étais une couleur, je serais

Si j'étais un film, je serais

Si j'étais un plat, je serais

Si j'étais un pays, je serais

Si j'étais un sport, je serais

Si j'étais une chanson, je serais

Grammaire : Complète chaque nom avec l'expansion demandée

Aide toi des leçons sur le groupe nominal, le complément et la proposition subordonnée relative dans ton petit cahier jaune de leçons

Il a frotté la **lampe**
(+ adjectif)

La maîtresse porte des **lunettes**
(+ complément du nom)

Regarde ce petit **chat**
(+ proposition subordonnée relative)

J'ai rencontré la **cousine**

(+ adjectif + complément du nom)

Anne est montée sur un **bateau**

(+ adjectif + proposition subordonnée relative)

Lecture :

Le maître t'a prêté un roman : « La malédiction du prince » (de Norbert Desnos)

Lis attentivement la suite des aventures de Julien, Morgane, Braelig et Nellya (de la page 34 à la page 47). Demain, tu devras répondre à un questionnaire sur le roman entier.

Mathématiques :

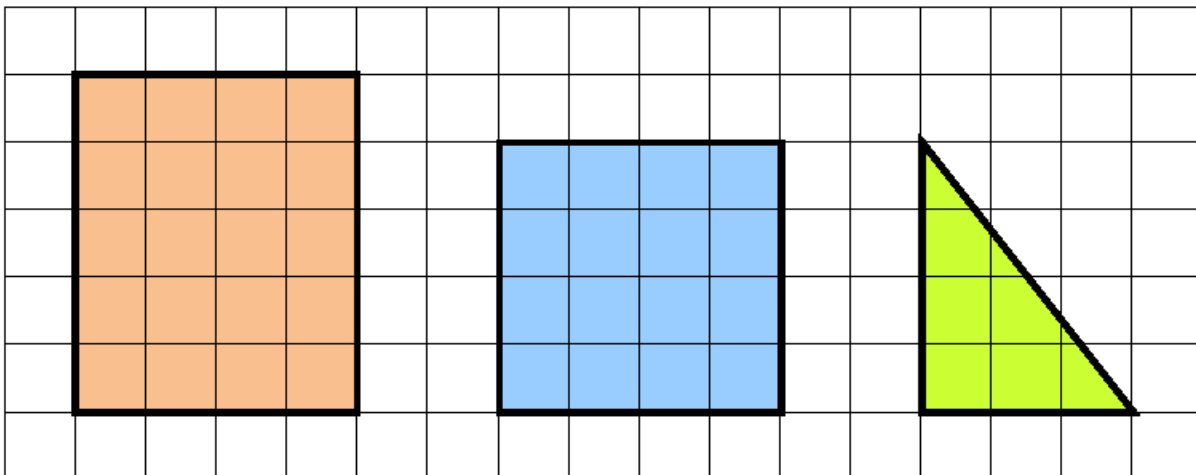
Écris le nombre décimal qui correspond à ces fractions

$28/10 =$	$8/10 =$	$75/100 =$
$36/10 =$	$258/100 =$	$901/100 =$
$352/10 =$	$3149/100 =$	$6/100 =$

Calcul mental

Pour continuer à t'entraîner en calcul mental, tu peux te rendre sur le site calcul@TICE en cliquant sur le lien suivant : <https://calculatice.ac-lille.fr/spip.php?rubrique2>

Sur le quadrillage ci-dessous, chaque carreau mesure 1 cm de côté, et a donc une aire de 1 cm². On a représenté un rectangle, un carré et un triangle rectangle.



Combien y a-t-il de carreaux dans le rectangle ? Retrouve ce résultat à l'aide d'une opération :

L'aire du rectangle est de cm²

Aire d'un rectangle = longueur x largeur

Combien y a-t-il de carreaux dans le carré?

Retrouve ce résultat à l'aide d'une opération :

L'aire du carré est de cm²

Aire d'un carré = côté x côté

Peut-on compter le nombre de carreaux dans le triangle rectangle ?

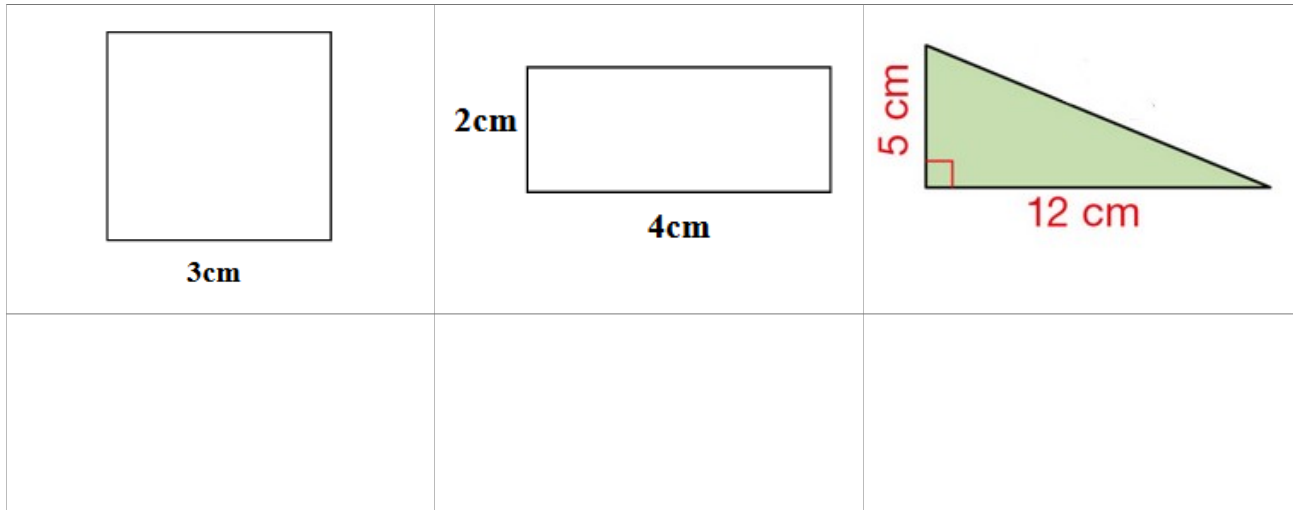
Pour calculer l'aire du triangle, on calcule l'aire d'un rectangle puis on divise le résultat par 2.

Aire du triangle rectangle = (x) : 2

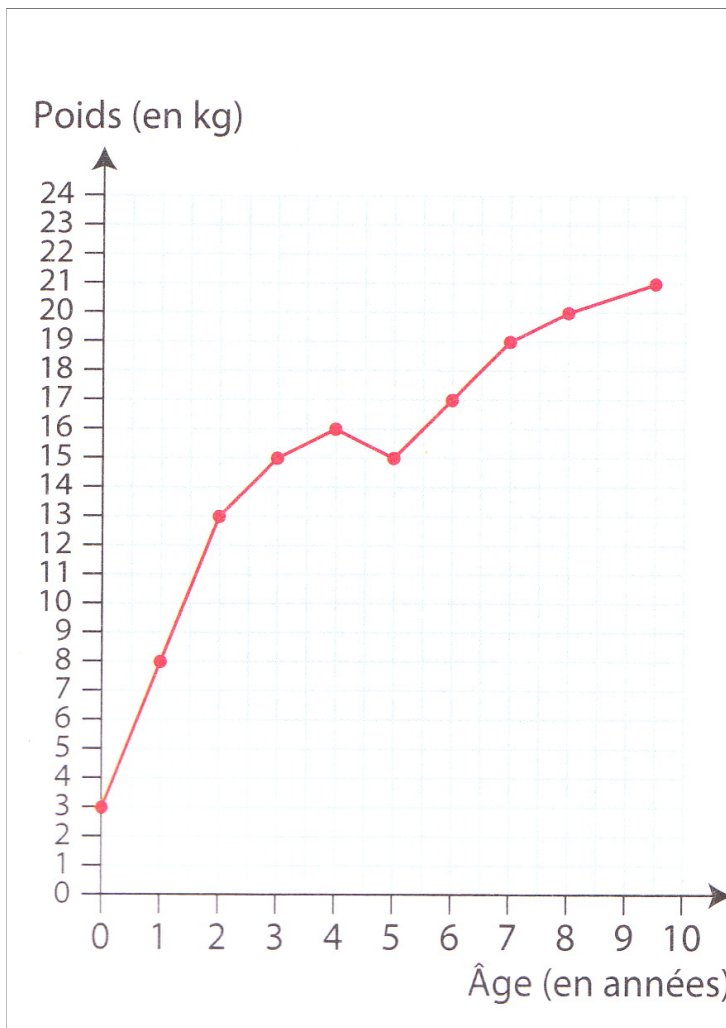
L'aire du triangle rectangle est de cm².

Aire d'un triangle = (base x hauteur) : 2

Calcule l'aire de chaque figure



Voici le carnet de santé de Lou. Réponds aux questions



1. Quel était le poids de Lou à la naissance ?

2. Quel était son poids à 2 ans ?

3. Quel était son poids à 8 ans ?

4. A quel âge pesait-elle 8 kg?

5. A quel âge pesait-elle 17 kg?

6. De combien a-t-elle grossi entre 5 et 8 ans ?

7. A-t-elle maigri ?

(surligne la bonne réponse)

- Entre 3 et 4 ans
- Entre 4 et 5 ans
- Entre 5 et 6 ans

Histoire /E.M.C : Les symboles de la République

Regarde la vidéo sur les symboles de la République (Marianne, le coq et le drapeau) :

<https://www.lumni.fr/video/marianne-le-coq-et-le-drapeau-27-mai>

Puis réponds aux questions :

1) Que représentent les 3 couleurs du drapeau français : bleu, blanc et rouge ?

2) Comment s'appelle ce célèbre tableau d'Eugène Delacroix sur lequel on peut voir Marianne ?

3) En latin, que signifie « gallus » (avec un « g » minuscule) ?

En latin, que signifie « Gallus » (avec un « G » majuscule) ?

Arts plastiques : Les œuvres du Douanier Rousseau

Dans un message reçu cette semaine (que nous découvrirons en entier lors du retour en classe fin avril), Cléo T vous suggère de découvrir des peintures du Douanier Rousseau, puis de lui dire ce que vous en pensez.

Voici donc quatre œuvres peintes par Henri Rousseau (plus souvent appelé Le Douanier Rousseau) :



La bohémienne endormie, Henri Rousseau, 1897



Le lion ayant faim se jette sur l'antilope, Henri Rousseau, 1905



Combat de tigre et buffle, Henri Rousseau, 1891



Joyeux farceurs, Henri Rousseau, 1906

En découvrant ces peintures, quels sont, à ton avis les thèmes préférés du peintre (ce qu'il aime peindre) ?

A ton avis, où le Douanier-Rousseau a-t-il peint ces toiles ?

Que penses-tu de ces tableaux ? Que ressens-tu en les regardant ?