



« Le fils de l'homme » de René Magritte

CAHIER JOURNAL A DISTANCE n°16

Classe de CM1-CM2

École de Genouillac

Commune de Terres de Haute-Charente

CM1


Prénom :

Date :

Le défi du jour d'Inès :

Corrigé du défi de mardi: Ce sont des angles à 90 degrés!


Rébus :




n'



~~Sa~~



2



Musique :

Continue à t'entraîner à chanter « Aller là-bas ». Vérifie que tu connais bien les paroles par cœur !

La chanson se trouve sur le site de l'école : <http://sitesecoles.ac-poitiers.fr/ecolegenouillac/>

dans la rubrique CM1-CM2. Tu peux aussi chanter sur la version instrumentale du refrain (en pièce jointe du mail) et t'enregistrer (ou te filmer). Envoie moi le résultat : je le ferai passer à David Sire.

Puis, clique sur le lien suivant: <http://blogs16.ac-poitiers.fr/lesartsdeslecole/2020/03/25/chanter-a-la-maison/> Tu vas découvrir plusieurs versions de la chanson « Le roitelet » (dont une qui devrait te rappeler des souvenirs...). Écoute les attentivement... et chante !!!

Grammaire : la forme affirmative et la forme négative

A l'oral, la première partie de la négation (ne ou n') est souvent oubliée. Mais à l'écrit, elle est absolument obligatoire.

Réécris les phrases correctement

Exemple :

Je veux pas écouter cette musique.

⇒ Je **ne** veux pas écouter cette musique.

Il est jamais allé au Canada.

⇒

J'ai pas le droit de crier en classe.

⇒

T'as jamais tes affaires !

⇒

Pourquoi est-ce que vous portez plus vos lunettes ?

⇒

Je lis jamais de bandes dessinées.

⇒

Il pleut plus.

⇒

Léna mange pas à la cantine.

⇒

On a rien entendu à cause des travaux.

⇒

Lire / Écrire : Portraits devinettes

Lis les portraits imaginés par les élèves de la classe. Il peut s'agir d'un enfant / adulte de l'école de Genouillac ou d'une personne célèbre.

<p style="text-align: center;">1</p> <p>Cette personne aux cheveux blonds porte un carré aux épaules. Elle a un visage magnifique, des yeux bleus et un beau sourire. C'est un personnage rigolo et joyeux qui parle beaucoup. Elle reste dynamique, même avec sa petite taille. Cette fille habite à Genouillac avec son frère. Au mois de septembre, elle fera sa rentrée en 6ème. Le 1^{er} mai, cette écolière fêtera ses 11 ans. Son activité préférée est le poney.</p>	<p style="text-align: center;">2</p> <p>Mon personnage est un sportif de haut niveau qui a 21 ans et qui mesure 1,78 m. Ses cheveux sont courts et bruns. Ses qualités sont le respect, jouer collectif, travailler beaucoup pour arriver à progresser. Il aime faire des blagues et rigoler avec ses coéquipiers. C'est un joueur de football très connu pour son jeune âge. Qui est-il ?</p>
<p style="text-align: center;">3</p> <p>C'est un roi. Il vit à Versailles. Son père et son arrière petit-fils ont fait le même métier que lui. Il a eu son métier à 5 ans. Sa mère était Anne d'Autriche (mais elle ne vient pas d'Autriche). Il a vécu 75 ans. Son symbole est le soleil.</p>	<p style="text-align: center;">4</p> <p>Il est grand. Il a une calvitie. Il est sportif. Il a gagné la coupe d'Europe et la coupe du monde. Il est à la retraite. Il a les yeux bleus. Il est fort.</p>
<p style="text-align: center;">5</p> <p>Il est de taille moyenne. Il a les yeux marrons. Il n'a pas beaucoup de cheveux. Ses qualités, ce sont les dribbles et la vitesse. Il a 21 ans. Il habite à Paris.</p>	<p style="text-align: center;">6</p> <p>Cet enfant est grand, il a les cheveux courts. Il est fort au foot et il est très gentil. Il aime beaucoup le foot. Il a 10 ans. Ce garçon habite à Genouillac.</p>
<p style="text-align: center;">7</p> <p>C'est un garçon costaud qui est en CM1. Il a des cheveux noirs. Il joue avec les autres. Sa maîtresse s'appelle Léna. Il fait du hand et de la guitare. Il a un frère très gentil et sa maman parle le latin.</p>	<p style="text-align: center;">8</p> <p>Il est né en 1452. Il était créateur. Il était dessinateur. Il a imaginé la vis aérienne vers 1490 pour s'élever verticalement dans l'air. Il était italien et il a rencontré François Ier.</p>

9	10
Il est brun. Il est de taille moyenne. Il aime le foot. Il est intelligent. Il a 9 ans. Il habite à Genouillac.	Cette célébrité a les yeux marrons. Il est chauve, métisse. Il a une corpulence normale. C'est une personne qui a du talent. Il est chanteur, rappeur originaire de Marseille. Il a 39 ans et il est papa de 3 enfants.
11	12
C'est un homme, français, sportif. Il habite en Suisse. Il mesure 1.71m. Son âge est de 46 ans. Il a les cheveux châtain et les yeux bleus. C'est un compétiteur, vainqueur de plusieurs compétitions. C'est un grand pilote de rallye. Il a fait une publicité avec 2 joueurs de foot très connus. Il a une attraction au Futuroscope, où on est son copilote.	Mon ami est de taille normale. La forme de son visage est ovale. Ce garçon a les yeux marrons. Il porte une paire de lunettes en classe. Il joue bien au foot, il travaille bien et il court vite. Des fois, il se fâche parce que les autres l'embêtent. C'est un élève de la classe. Mon copain a 9 ans. Il habite à Suris.
13	14
Cette personne habite en Charente. Il a les cheveux de la couleur du soleil. La personne aime faire du bricolage et du quad. Elle fait 1m 40 cm à peu près et a 3 chats.	Il est très grand. Son visage est rond. Ses yeux sont marrons. Ses cheveux sont ébouriffés de couleur marron et un peu blancs. Son nez est long et sa bouche est petite. C'est une personne à la voix douce. C'est une personne très gentille avec les autres. Je ne sais ni où il habite ni quel âge il a, mais il est musicien.
15	
Blond, portant boucle d'oreille seulement à l'oreille gauche, cheveux rasés sur les côtés, il a 3 passions : le cross en quad, vélo ou moto ; le saut de rampe en BMX ; le bricolage, le jardinage et la mécanique. Il porte différents bracelets et une montre.	

QUI EST QUI ? A toi de deviner...

Écris le nom de la personne en face du numéro.

1	
2	
3	
4	
5	
6	
7	
8	
9	
10	
11	
12	
13	
14	
15	

Mathématiques :

Calcule les moitiés.

Quelle est la moitié de 28 ?	Quelle est la moitié de 34 ?
Quelle est la moitié de 42 ?	Quelle est la moitié de 56 ?
Quelle est la moitié de 64 ?	Quelle est la moitié de 72 ?
Quelle est la moitié de 86 ?	Quelle est la moitié de 98 ?

Pour continuer à t'entraîner, tu peux te rendre sur le site calcul@TICE en cliquant sur le lien suivant : <https://calculatice.ac-lille.fr/spip.php?rubrique2>

L'âge de ma sœur

Aujourd'hui ma sœur a 36 ans.
En quelle année est-elle née ?

Les melons

Un restaurateur a acheté 26 plateaux de 8 melons. Mais il doit retirer 7 melons qui sont abîmés.
Combien de melons peut-il servir à ses clients ?

Les fleuves

La Loire mesure 1 020 km, le Rhône 208 km de moins; la Seine est plus courte que le Rhône de 36 km et la Garonne a 201 km de moins que la Seine.
Quelles sont les longueurs respectives de ces fleuves?

Les cahiers

La maîtresse pose 7 cahiers identiques sur une balance. La balance indique 5782 grammes.
Quel est le poids d'un cahier ?


La pasta party

Géraldine organise une pasta party. Son père lui prépare un tableau afin qu'elle prévoie les quantités de pâtes nécessaires selon le nombre d'invités.
Complète le tableau.

Nombre d'invités	4	8	2	12	16
Masse de pâtes (en grammes)	240				

Anglais : Food (2)

Relis et rappelle toi du nom des aliments en anglais.
Observe les images ci-dessous.




Lis chaque phrase et essaie d'associer chaque phrase à l'image correspondante.

	Numéro de l'image
He likes pizza and chips. Who is it ?	
He likes fruits : bananas, pears, apples and tomatoes. Who is it ?	
He likes eggs and hamburgers. Who is it ?	
He likes cheese and chocolate. Who is it ?	
He likes ice cream and tomatoes. Who is it ?	
He likes fruits and chocolate. Who is it ?	

Arts visuels : Écris le nom de son auteur à côté du tableau qu'il a peint :

Pablo Picasso – Gustav Klimt – Roy Lichtenstein – René Magritte



Sciences / Géographie : Consommer en France : l'alimentation (5)

Regarde la vidéo « Quelles sont les origines de nos aliments ? » en cliquant sur le lien suivant :

<https://lesfondamentaux.reseau-canope.fr/discipline/sciences/le-fonctionnement-du-corps-humain-et-la-sante/l'alimentation/que-mange-t-on.html>

Complète le tableau suivant avec le nom d'aliments que tu connais.

ALIMENTS D'ORIGINE ANIMALE	ALIMENTS D'ORIGINE VÉGÉTALE	ALIMENTS D'ORIGINE MINÉRALE

Mon carnet fil rouge : Bilan de la journée : Qu'est-ce que j'ai appris aujourd'hui ?