

« Le baiser » de Gustav Klimt

## CAHIER JOURNAL A DISTANCE n°13

Classe de CM1-CM2

École de Genouillac

Commune de Terres de Haute-Charente

**CM2**

**Prénom :**

**Date :**

**Le défi du jour :**

*Corrigé du défi de vendredi : LORENZO (l'or – renne -zoo). Merci et bravo à lui !*



Le boulanger dispose de 5 plaques d'œufs comme celle-ci.

**Niveau 1 :**

Combien d'œufs le boulanger a-t-il ?

**Niveau 2 :**

Il doit réaliser 28 flans de 8 parts chacun. Et pour chaque flan, il a besoin de 7 œufs.

En aura-t-il assez ?

*Justifie ta réponse.*

## **Orthographe : les lettres finales muettes**

De nombreux mots ont une consonne finale muette, c'est-à-dire qu'elle n'est pas prononcée (on ne l'entend pas). Pour trouver cette consonne finale, on peut :

- former le féminin (des adjectifs par exemple). Ex : grandd → grande
- trouver un mot de la même famille. Ex : un bruit → bruitage

**Retrouve la lettre finale de chaque mot :**

Un film très lon	Un enfant bavar
Un plat froi	Un cheval au galo
Vive le spor	Avoir son permi
Un restaurant chinoi	L'univer
Du fromage blan	Un superbe arrê
Arriver en retar	Le don du san

## Musique :

Écoute la chanson « Good people » (de Jack Johnson) en cliquant sur le lien suivant :

<https://www.youtube.com/watch?v=hxuCl0pcEy4>

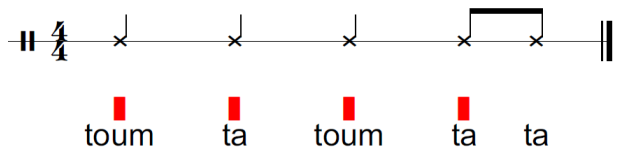
v=hxuCl0pcEy4

Puis remets la chanson au début et accompagne la en frappant des percussions corporelles.

Utilise le rythme 4.

## Rythme 4

Toum = Frapper avec une main sur le torse / Ta = frapper dans les mains



## Écrire : le portrait devinette

Sans jamais écrire son nom, écris le portrait d'un enfant / adulte de l'école de Genouillac (ou si tu préfères, d'une personne célèbre).

Dans les jours qui viennent, le maître donnera ton texte à lire aux autres enfants de la classe. Ils devront deviner de qui il s'agit.

Ton portrait devra comporter au moins 3 parties :

- une description physique de la personne : décrire son allure générale, sa taille, la forme de son visage, ses yeux, ses cheveux / sa coiffure, son nez, sa bouche, ...

- une description morale : décrire ses qualités, ses défauts, son caractère, sa façon de s'exprimer ou de se comporter avec les autres, ...

- une description de ses activités préférées / de son métier, ...

Tu peux aussi donner l'âge de la personne, où elle/il habite, ...


Tu peux également accompagner ton texte d'un dessin de la personne.

Attention, fais des phrases complètes (avec un verbe). Essaie d'éviter les répétitions (il / elle)

## Mathématiques :

Calcule le plus vite possible les divisions suivantes.

Chronomètre toi et écris le temps réalisé.

25 : 3 =	q=	r=	39 : 6=	q=	r=	70 : 9=	q=	r=
32 : 4=	q=	r=	65 : 7=	q=	r=	57 : 6=	q=	r=
34 : 5=	q=	r=	64 : 8=	q=	r=	51 : 8 =	q=	r=
23 : 2 =	q=	r=		<u>Temps réalisé :</u>				

Problème n°1 :

Baptiste pose 6 cahiers exactement identiques sur une balance. La balance indique 5565,9 grammes. Quel est le poids d'un cahier ?

**Rappel : Pour résoudre ce problème, tu dois faire la division d'un nombre décimal par un nombre entier.**

**Pour t'aider, regarde la leçon ci-dessous (ou la leçon Opé12 de ton porte vues noir).**

**Division d'un décimal par un entier**

Le « truc » pour réussir :

D U  $\frac{1}{10}$   $\frac{1}{100}$

1	3	,	9	0	5
3	9				2,78
4	0				
	0				

Dès que l'on abaisse le chiffre des dixièmes du dividende, on met une virgule au quotient.

Quand tu rencontres la virgule dans le dividende (dans la partie gauche de la division), mets la virgule au quotient (dans la partie droite de la division).

Remarque : on écrit autant de 0 que nécessaire après le dernier chiffre du dividende.  
13,9 = 13,9000...

Pose et calcule:

94,2:3 =

58,50 : 6 =

37,44 : 8 =

315,84 : 7 =

435,8:9 =

362,16 : 12 =

Problème n°2 :

Un paquet de 12 brioches coûte 3,84 €. Quel est le prix d'une brioche ?

Problème n°3 :

Gaëlle achète 7 gâteaux identiques. Elle donne 20 € et la pâtissière lui rend 4,25 €. Quel est le prix d'un gâteau ?

## **Géographie : Consommer en France : l'alimentation (4)**

Regarde la vidéo sur la fabrication des yaourts en cliquant sur le lien suivant :

<https://www.youtube.com/watch?v=9bjuuxQPjJQ>

Puis réponds aux questions

**1. Remets les étapes de la fabrication (du n°1 au n°6) du yaourt dans le bon ordre.**

	Pasteurisation
	Mise en pot
	Fermentation
	Écrémage
	Tunnel de refroidissement
	24 heures de stockage

**2. A quoi sert la pasteurisation ?**


**3. Combien de yaourts est-il recommandé de manger chaque jour ?**

**4. Quels sont les effets bénéfiques de sa consommation ?**


**5. Pourquoi est-ce que le yaourt est bon pour les personnes âgées ?**

## **Anglais : Food (1)**

Voici le nom de plusieurs aliments en anglais. Lis les attentivement puis essaie de les mémoriser.



apple



banana



**CHEESE**



chips



Chocolate



**EGG**




fruits

Hamburger



Ice cream



pear



**PIZZA**



Tomato

Mon carnet fil rouge : Bilan de la journée : Qu'est-ce que j'ai appris aujourd'hui ?