


LES DURÉES, LES HEURES

Date: _____

A Mesurer les durées

1  Coche la bonne réponse à chaque fois.

- La nuit, je dors: plus d'une heure moins d'une heure
- L'école dure: plus d'une heure moins d'une heure
- La récréation dure: plus d'une heure moins d'une heure

2  Colorie la bonne réponse.

Qu'est-ce qui dure le plus longtemps ?

un repas

ou

une journée d'école

une nuit

ou

un repas

la récréation

ou


la leçon de lecture


B Lire l'heure

3  Écris :

- le nombre d'heures dans une journée: _____

- le nombre de minutes dans une heure: _____

4  Relie chaque image à la légende correspondante.



• un radio-réveil



• une pendule