


5  Coche l'heure indiquée.





- sept heures dix
- sept heures vingt




- dix heures trente
- dix heures vingt



6  Relie chaque montre à l'heure qu'elle indique.




- 9 heures
- 7 heures




- 9 heures 30
- 9 heures 20




- 3 heures et quart
- 5 heures cinq



- 11 heures 20
- 4 heures moins 5



- midi
- 12 heures 30



- 10 heures cinq
- 20 heures dix

### JE RETIENS

➔ Une leçon dure à peu près une \_\_\_\_\_.

La récréation dure \_\_\_\_\_ longtemps. La nuit dure \_\_\_\_\_ longtemps.