

Prénom : _____

Date: _____

Problèmes : Lire un tableau








1 Entoure dans le tableau les informations suivantes :



Classe	Garçons	Filles	Total
CP	10	12	22
CE1	12	12	24
CE2	17	11	28
CM1	10	14	24
CM2	11	15	26

En rouge, le nombre d'élèves de CM2.
En bleu, le nombre de garçon de CP.
En vert, le nombre de filles de CM1.
En jaune, la classe comptant autant de filles que de garçons.
En noir, la classe comptant plus de garçons que de filles.

2 Réponds aux questions suivantes :

	 Une règle	 Un crayon	 Des ciseaux	 Un livre	 Une gomme	 Une ardoise	 Un pot de colle	 Une craie
1€		X						X
2€	X				X		X	
3€			X					
4€				X		X		

- Quels objets coûtent 4€ ?
- Combien coûte le crayon ?
- Combien coûtent une ardoise et une craie ?
- Puis-je acheter un livre et un crayon avec 5€ ?
- Combien coûtent 2 paires de ciseaux ?
- Combien coûtent un crayon, une gomme et une règle ?
.....

Problèmes : Lire un tableau

3 Réponds aux questions suivantes :


N° du train	357	208	167	2 307
Paris	4 h 12	6 h 28	10 h 15	12 h 13
Tours	5 h 24	7 h 40	11 h 27	13 h 26
Poitiers	5 h 42	7 h 58	11 h 45	13 h 43
Bordeaux	7 h 15	9 h 31	13 h 18	15 h 16

• Victor prend le train n° 167 à Paris.
À quelle heure part-il ?
Il part à

• Nina le rejoint à Poitiers.
À quelle heure prendra-t-elle le train ?
Elle prendra le train à

• Jean a pris le train n° 2 307. À quelle heure arrivera-t-il à Bordeaux ?
Il arrivera à Bordeaux à

• Fatou est arrivée à Tours à 7 h 40. Indique le n° du train utilisé :
.....







4 Observe le tableau et réponds aux questions :

Au restaurant scolaire, chaque élève choisit un seul dessert.

• Combien d'élèves ont choisi une banane :
le mardi ? :
le jeudi ? :

• Quel jour les élèves ont-ils choisi le plus de yaourts ?
.....

• Combien de pommes ont été choisies dans la semaine ?
.....

	Lundi	Mardi	Jeudi	Vendredi
Orange 	12	9	6	12
Banane 	20	16	8	10
Pomme 	5	4	6	5
Yaourt 	15	14	9	3













Prénom : _____

Date: _____

Problèmes : Lire un tableau

5 Observe le tableau et réponds aux questions :

Nicolas et Camille ont acheté cette semaine leur nouvelle tenue de sport. Le tableau ci-dessous indique ce qu'ils ont acheté et quel jour.

	Lundi	Mardi	Mercredi	Jeudi	Vendredi
 Nicolas	Le short 	Les chaussures 	Le polo 	Les protège-tibias 	Le ballon 
 Camille	Le casque 	Les rollers 	Les coudières 	Les genouillères 	Le short 

- Quel article Camille a-t-elle acheté mardi ? _____
- Quel jour Nicolas a-t-il acheté son ballon ? _____
- Qui a acheté un casque et quel jour ? _____
- À ton avis, quel sport pratique Nicolas ? _____
Et Camille ? _____

6 Lis les documents et complète les phrases :



Lisa et Tom partent en colonie de vacances. Ils ont fait leurs valises.

	short	T-shirt	pantalon	pull
Lisa	6	12	3	3
Tom	4	14	4	1

Tom a emporté T-shirts, pull et shorts.

Lisa a pris pantalons, pulls et T-shirts.


Prénom : _____

Date: _____

Problèmes : Lire un tableau

7 Utilise le tableau pour répondre aux questions.



	pommes	poires	fraises	melons	pastèques	cerises
Vendu à l'unité				2 €	4 €	
Vendu au kilo	2 €	3 €	5 €			6 €
Vendu par lots de 10	3 €	4 €		18 €		

- Combien coûte 1 kilo de cerises ?
- Quel fruit coûte 5 € le kilo ?
- Quels sont les fruits que je peux acheter à l'unité ?
- Quels sont les fruits vendus à la fois au kilo et par lot ?
- Quels sont les fruits que je ne peux acheter qu'au kilo ?
- Combien vais-je payer pour 1 lot de poires et 1 kilo de fraises ?

.....

8 Réponds aux questions en t'aidant du tableau :

	Poids	Taille	Durée de vie
Grand dauphin	390 kg	290 cm	50 ans
Thon rouge	250 kg	195 cm	12 ans
requin-tapis	70 kg	180 cm	26 ans
Otarie à crinière	245 kg	225 cm	18 ans
Raie léopard	230 kg	300 cm	18 ans
Napoléon	190 kg	230 cm	32 ans

- Quel animal pèse moins de 200 kg et mesure plus de 200 cm ?

.....

- Quel animal pèse plus de 200 kg et mesure plus de 295 cm ?

.....

- Classe ces animaux marins du plus léger au plus lourd.

.....

- Quels sont les animaux qui vivent plus de 30 ans ?

.....

- Quels sont les animaux marins qui ont la même durée de vie ?

.....

