



1 - Écris le nombre de billets et de pièces nécessaires pour obtenir la somme indiquée.



95 €

77 €

80 €

72 €

2 - Calcule mentalement les opérations suivantes.

$69 + 11 =$

$85 - 11 =$

$76 + 11 =$



$75 + 11 =$

$93 - 11 =$

$54 + 11 =$

3 - Trace un carré dont les côtés mesurent 4 carreaux.

Puis trace un rectangle dont la longueur est de 6 carreaux et la largeur de 3 carreaux.



4 - Complète ce sudoku.



Dans chaque ligne, chaque colonne et chaque carré, tu ne dois avoir qu'une fois les chiffres de 1 à 4.

1		4	
		2	
2	3		4



Combien d'indices as-tu pour l'instant ?

5 - Reproduis le dessin sur le quadrillage puis colorie-le.



6 - Résous le problème. Pose les opérations en ligne, puis écris une phrase réponse.

Mia et Pablo collectionnent les timbres. Pablo compte les siens et dit : « J'ai 77 timbres ». Mia lui répond : « Oh ! Tu as 28 timbres de plus que moi ! ». Combien Mia a-t-elle de timbres ?

.....
.....
.....



Nombre d'indices obtenus :

De 0 à 4 : Apprenti enquêteur
De 10 à 15 : Fin limier

De 5 à 9 : Bon investigateur
De 16 à 21 : Roi des détectives