

CORRIGE

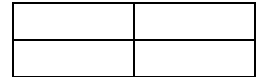


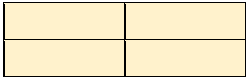
Les fractions supérieures à 1 : Entraînement-

Représenter des fractions supérieures à 1. Découper les fractions en somme d'un nombre et d'une fraction inférieure à 1.

Maintenant à toi de jouer !

1. Margaux, elle, a mangé 5 petits toasts.



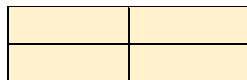

Colorie ce que cela représente en fraction de grande tranche :



En t'aidant de l'exercice guidé, complète l'égalité : $\frac{5}{4} = 1 + \frac{1}{4}$

2. Louise, elle, a mangé 14 petits toasts.

Colorie ce que cela représente en fraction de grande tranche :



En t'aidant de l'exercice guidé, complète l'égalité : $\frac{14}{4} = 3 + \frac{2}{4}$