



LES FRACTIONS

Cm1

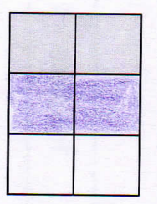
1 Complète en coloriant le nombre de parties nécessaires pour que la fraction soit exacte.




$$\frac{5}{8}$$



$$\frac{3}{4}$$





$$\frac{4}{6}$$



$$\frac{6}{16}$$

Le segment est découpé en 5 parts et on en a colorié 4 parts.

2 Ecris la fraction qui correspond à la partie coloriée.



Le segment est découpé en 9 parts égales et j'en ai colorié 7 parts.

Les réponses sont soulignées en jaune. Le que j'ai écrit en rouge, vert ou violet sont juste des aides à la compréhension.

Le segment est découpé en 3 parts égales et on en a colorié 1 part.


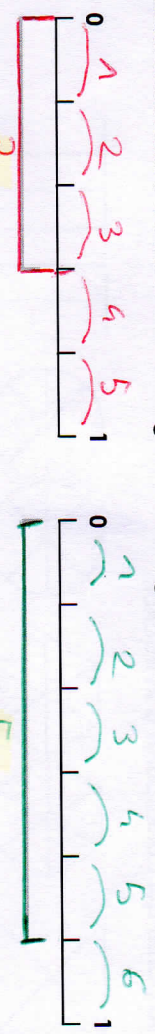
Le segment est découpé en 5 parts et on en prend 3 parts.

Le segment est découpé en 10 parts et j'en prend 7 parts.

j'en reune 1 part

j'en reune 5 parts

3 Ecris sous forme de fractions la longueur des segments suivants.



4 Trace les segments correspondant aux fractions indiquées.



j'en reune 3 parts

Le segment est découpé en 6 parts et on en prend 5 parts.

5 Ecris la fraction qui correspond aux points sur la droite.

