

Prénom :

Date :

papa

1

Entoure dans chaque liste la lettre qui a servi à ranger ces mots dans l'ordre alphabétique.

1 courir - grimper - ramper - sauter

2 pain - pizza - poire

3 beau - blanc - bouquet - brosse

4 lacet - lait - lampe - large - lavabo

papa

2

Ecris le mot encadré dans l'ordre alphabétique (avant ou après le mot en gras).

main	main	nez	
scène		savon	scène
midi	midi	miel	
valise	valise	voyage	
rouler		rosier	rouler

papa

3

Ecris les mots suivants dans l'ordre alphabétique.

île - igloo - image

igloo - île - image

date - docteur - directeur - désert

date - désert - directeur - docteur

nombre - noircir - nocturne - normal

nocturne - noircir - nombre - normal

Prénom : _____

Date : _____

papas

1 Ecris les mots suivants dans l'ordre alphabétique.

clair - citron - capucine - chat - contre

cheville - jambe - lèvres - bouche - bras

plage - crabe - algue - coquillage - vague

papas

2 Ecris si le mot encadré va avant, entre ou après les mots en gras.

fossé	X	fortune	foudre	→	avant
-------	---	---------	--------	---	-------

karaté		kangourou	X	képi	→	entre
--------	--	-----------	---	------	---	-------

rire		ranger		rêver	X	→	après
------	--	--------	--	-------	---	---	-------

paix		page	X	parler	→	entre
------	--	------	---	--------	---	-------


feu	X	flamme		fumée	→	avant
-----	---	--------	--	-------	---	-------

cousin		court	X	couteau	→	entre
--------	--	-------	---	---------	---	-------

papas

3 Réécris la liste déjà rangée dans l'ordre alphabétique, en y ajoutant à la bonne place le mot encadré.

mois		mimer		modèle	X		mûrir		mystère
------	--	-------	--	--------	---	--	-------	--	---------

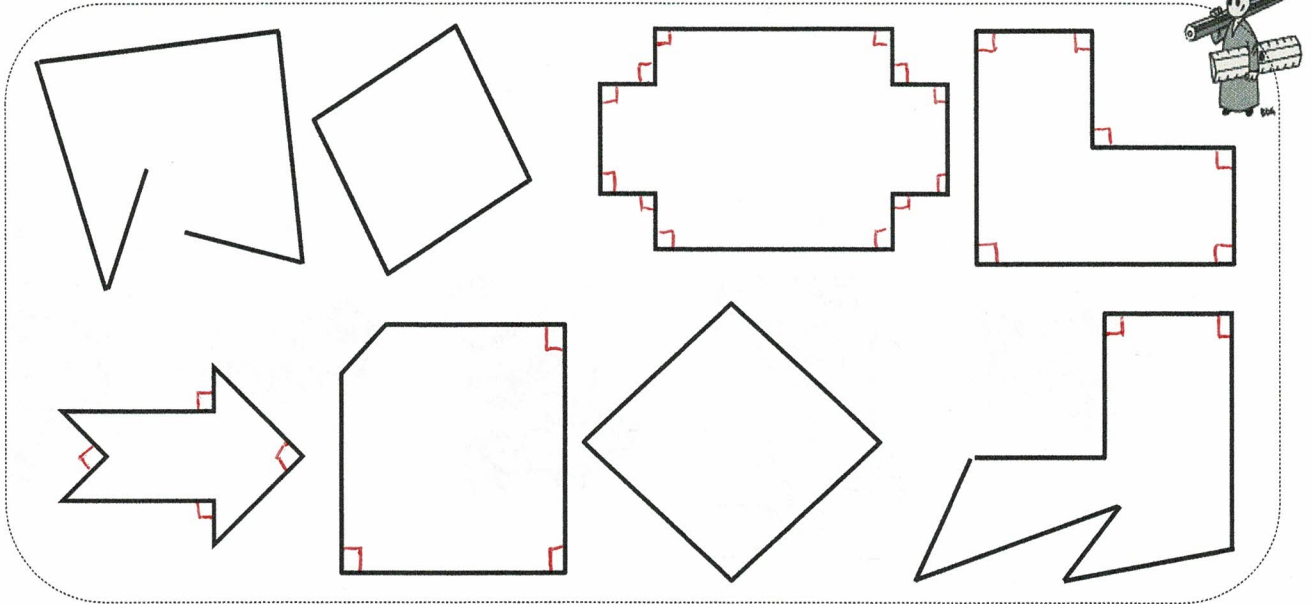


Géométrie

Fiche 3

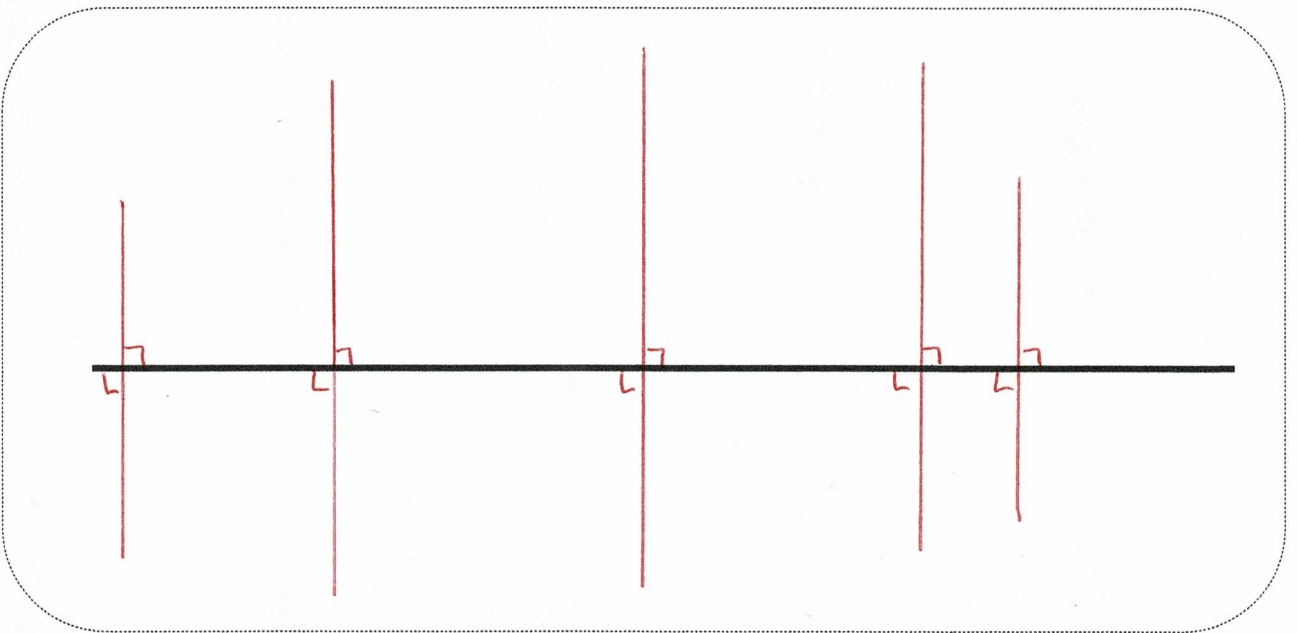
Les angles droits

1 Cherche les angles droits à l'aide ton équerre et marque-les d'un petit carré rouge.



2 Trace 5 droites avec des angles droits (des perpendiculaires) sur cette droite.

N'oublie pas de marquer les angles droits avec un petit carré rouge.





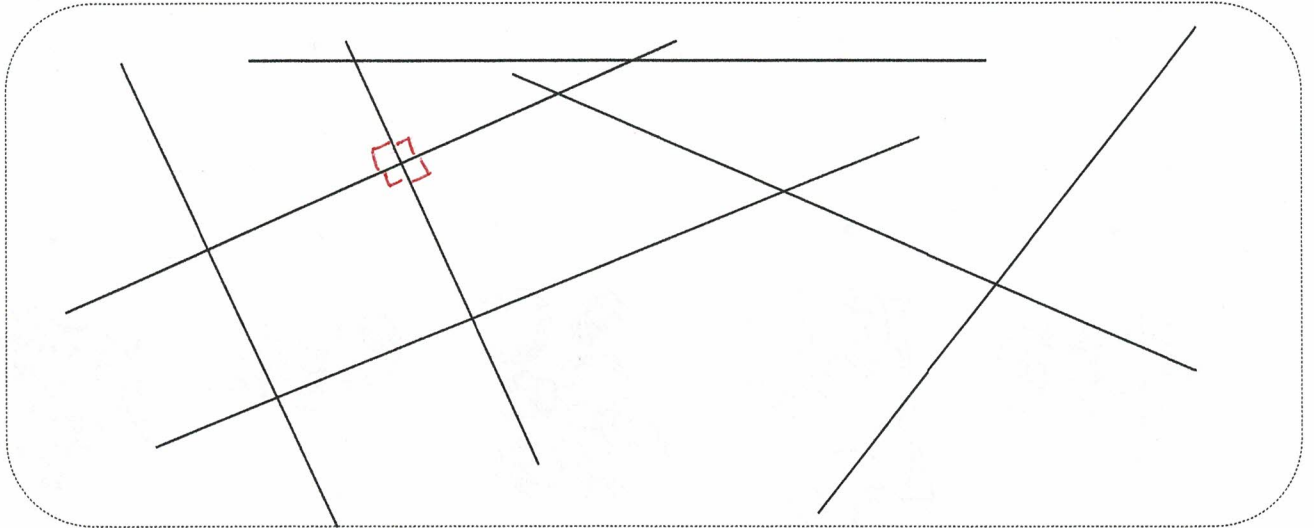
Géométrie

Fiche 4

Les angles droits



1 Cherche les angles droits à l'aide de ton équerre et marque-les d'un petit carré rouge.



2 Termine ces quadrilatères, attention il ne doit y avoir que des angles droits. Utilise ton équerre.

