


42 Tirobot et Robotine préparent 35 crêpes. 23 crêpes sont au chocolat. Les autres sont à la confiture. **Combien ont-ils préparé de crêpes à la confiture ?**

Recherche

1111 0000


Opération(s)

Calcul(s)

$$\begin{array}{r} 35 \\ - 23 \\ \hline 12 \end{array}$$


Phrase réponse

Ils ont préparé 12 crêpes à la confiture.



43 La mamie de Robotine offre 4 paquets de gâteaux à Robotine. Dans chaque paquet, il y a 12 gâteaux.

Combien a-t-elle offert de gâteaux à Robotine ?


Recherche

100 + 100
+ 100 + 100

4d8u


Opération(s)

Calcul(s)

$$\begin{array}{r} 12 \\ + 12 \\ + 12 \\ + 12 \\ \hline 48 \end{array}$$


Phrase réponse

Elle a offert 48 gâteaux à Robotine.



- 44 Pour le carnaval, la famille de Tirobot prépare des beignets.
Tirobot en fait 26, Robotine en fait 21 et sa maman en fait 32.
Combien ont-ils fait de beignets en tout ?



Recherche

$$\begin{array}{r} 11\ 000000 \\ 11\ 0 \\ \hline 111\ 00 \\ \hline 7d\ 9u = 79 \end{array}$$



Opération(s)

Calcul(s)

$$\begin{array}{r} 26 \\ + 21 \\ + 32 \\ \hline 79 \end{array}$$


Phrase réponse

Ils ont fait 79 beignets.



- 45 Tirobot achète 3 boîtes d'œufs pour faire des gâteaux.
Il y a 6 œufs dans chaque boîte.
Combien d'œufs Tirobot achète-t-il en tout ?

Recherche



Opération(s)

Calcul(s)

$$6 + 6 + 6 = 18$$

Phrase réponse

Tirobot achète 18 œufs.

