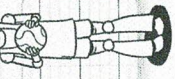


Date :

46 Dans la classe, il y a 20 élèves pour jouer au ballon. La maîtresse partage les élèves en 2 équipes. Il doit y avoir le même nombre d'élèves dans chaque équipe.
Combien d'élèves y aura-t-il dans chaque équipe ?

Recherche  Calculs

$10 + 10 = 20$


Précise réponse 

Il y aura 10 élèves dans chaque équipe

47 Tirobot a 12 balles et 2 paniers. Il lance autant de balles dans chaque panier.
Combien y a-t-il de balles dans chaque panier ?

Recherche  Calculs

$6 + 6 = 12$

Précise réponse 


Il y a 6 balles dans chaque panier.

Date :

48 Robotine range le matériel de sport. Elle remplit 4 sacs avec des ballons. Il y a 10 ballons dans chaque sac.
Combien Robotine a-t-elle rangé de ballons en tout ?

Recherche  Calculs

$10 \times 4 = 40$


Précise réponse 

Elle a rangé 40 ballons.

49 A chaque récréation, l'équipe de Tirobot participe à un tournoi de ballon. Hier, ils avaient 42 points. Aujourd'hui, ils en gagnent encore 25.
Combien de points l'équipe de Tirobot a-t-elle maintenant ?

Recherche Calculs

$42 + 25 = 67$

Précise réponse 

L'équipe a 67 points.