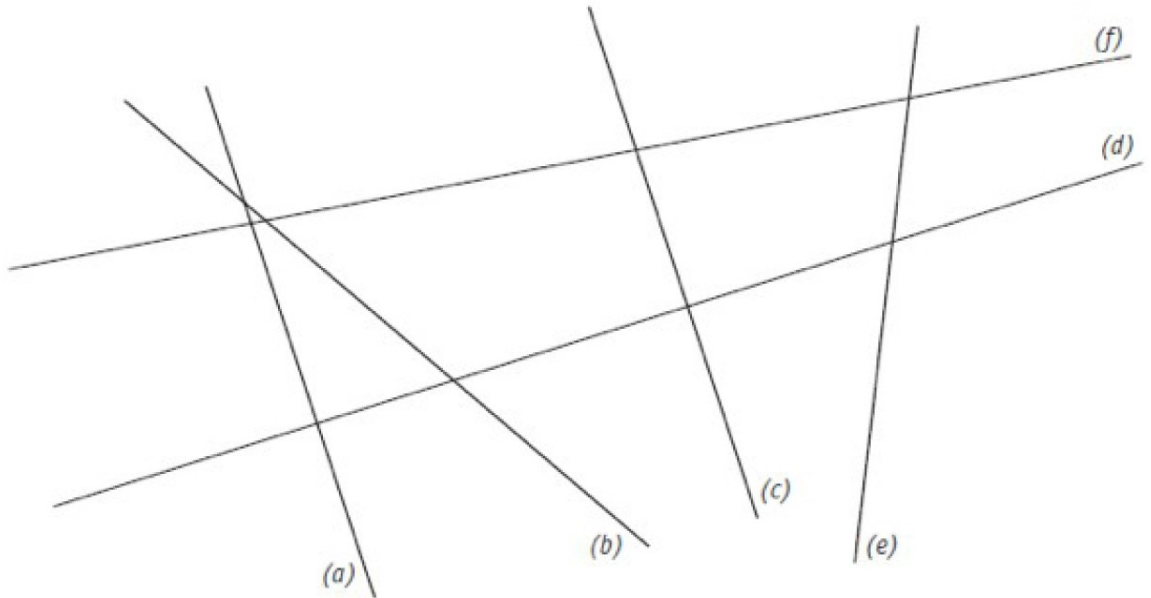


Prénom :

# Géométrie CM1 : parallèles et perpendiculaires

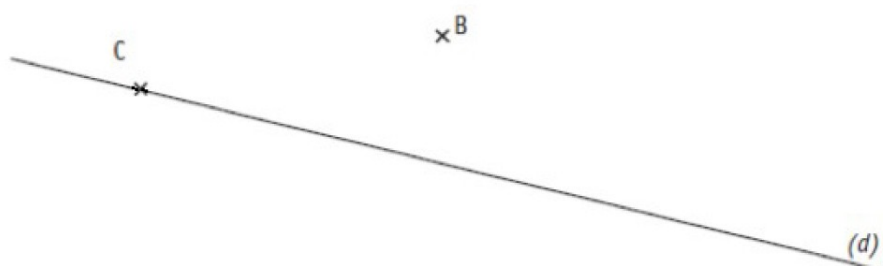
## Les droites perpendiculaires

Observe et réponds par Vrai ou Faux.



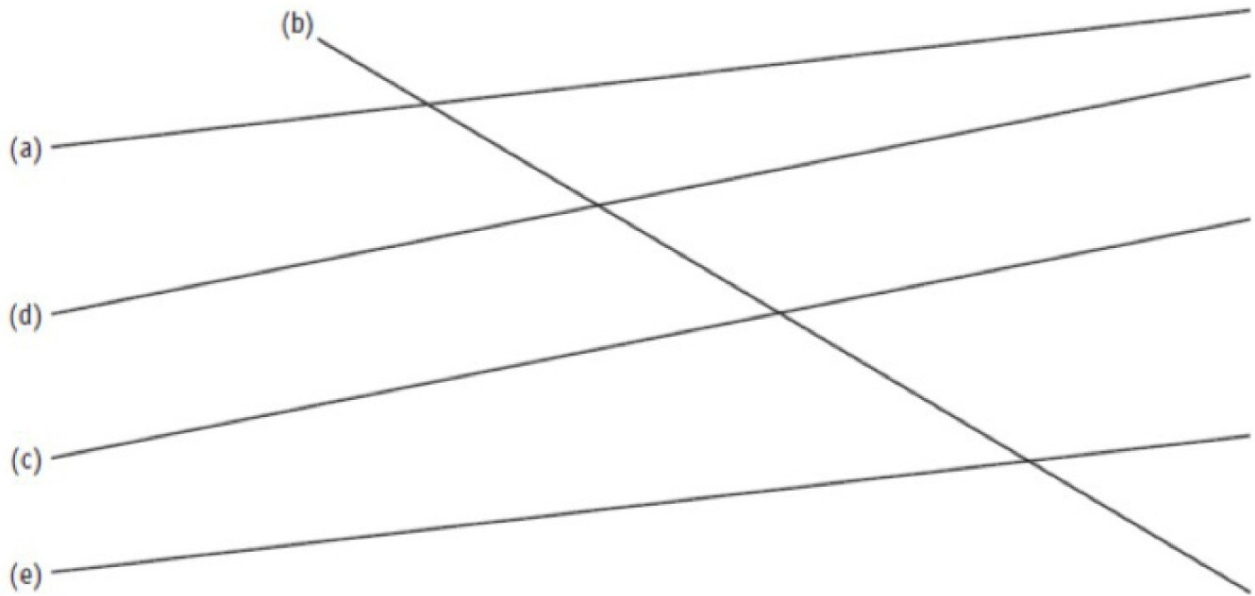
- a. La droite (a) est perpendiculaire à la droite (d). .....
- b. La droite (f) est perpendiculaire à la droite (d). .....
- c. La droite (c) est perpendiculaire à la droite (d). .....
- d. La droite (e) est perpendiculaire à la droite (d). .....

Trace deux droites perpendiculaires à la droite (d) : (n) qui passe par le point B et (p) qui passe par le point C. (Tu peux regarder comment on fait sur ta leçon)



# Les droites parallèles

## 1. Observe et réponds par Vrai ou Faux.



- a. La droite (a) est parallèle à la droite (d). .....
- b. La droite (b) est parallèle à la droite (d). .....
- c. La droite (c) est parallèle à la droite (d). .....
- d. La droite (e) est parallèle à la droite (d). .....

**Trace une droite (y) parallèle à la droite (d).**

(Tu peux regarder comment on fait dans ta leçon)

