

Correction de vocabulaire

4. Pousser

- Le moniteur de ski **encourage** ses élèves à s'entraîner chaque jour.
- L'édelweiss est une fleur protégée qui **se développe** en montagne.
- Un courant **entraîne** la barque vers le large.
- En sortant du téléphérique, un skieur impatient **bouscule** son voisin.
- Le garçon de café **déplace** une table pour faire de la place à un client.

5. Jouer

- Les enfants **s'amuse** dans la cour
- Le portail bloque parce que le bois **se déforme**.
- Victor **tient le rôle de** Cyrano au spectacle de fin d'année.
- Marie **fait** du piano.
- Félix **dépasse** les difficultés.
- Cécile **fait une partie de** tennis.

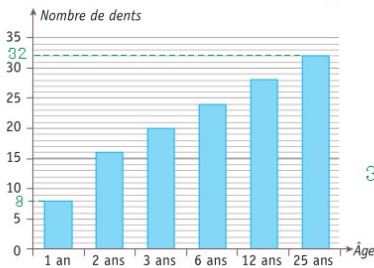
6. Prendre

Par grand soleil, je **mets** ma casquette.
 Quelqu'un lui a **volé** son sac.
 Jules César a **conquis** Alésia.
 Mon voisin **attrape** les papillons au filet.
 Je passerai vous **chercher** dans une heure.
 Je **mangerai** bien un fruit.
 On risque de **s'enrhumer**.
 Nous avons **utilisé** le car pour aller à Provins.
 Il **grossit** en ce moment.
 Allez vous **aérer**.

Corrections de mathématiques

Cherchons

Nombre de dents en fonction de l'âge



- Combien de dents poussent chez un être humain entre 1 et 25 ans ?

$$32 - 8 = 24$$

24 dents poussent chez un être humain entre 1 et 25 ans.

Un graphique permet de représenter des informations chiffrées sous la forme d'une courbe, de bâtons, etc.



1 * **PROBLÈME** Mme Duchapiteau calcule le nombre de billets vendus chaque jour dans son cirque.

Combien d'entrées de différence y a-t-il entre le jeudi et le samedi ?

Un écart est 'ce qui n'est pas pareil'. Le samedi, il y a 800 entrées, je retire (mets en moins -) 350 le jeudi, ça et ça se disent au jeudi et il me restera la différence!

$$\begin{array}{r} 800 \\ - 350 \\ \hline 450 \end{array}$$

La différence du nombre d'entrées entre jeudi et samedi est de 450.

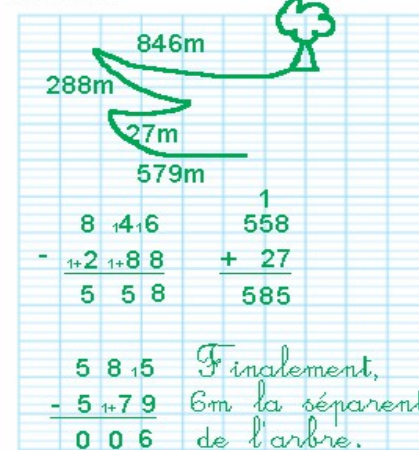
Vente de tickets dans la semaine



9 En allant chez sa mère-grand, le Petit Chaperon rouge s'amuse sur le chemin.

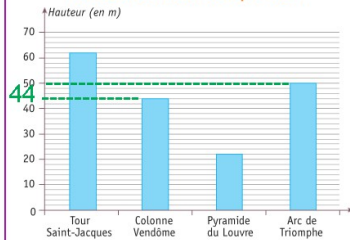
- Elle part d'un bel arbre centenaire et fait 846 mètres en avant.
- Elle revient sur ses pas de 288 mètres pour ramasser sa cape tombée à terre, et avance à nouveau de 27 mètres.
- Puis elle repart en arrière de 579 mètres pour voir de plus près l'animal qu'elle entend au loin.

Enfin, combien de mètres la séparent de l'arbre ?



2 * **PROBLÈME** Observe ce graphique.

Hauteur de monuments parisiens



Combien y a-t-il d'écart de hauteur entre l'Arc de Triomphe et la colonne Vendôme ?

$$\begin{array}{r} 50 \\ - 44 \\ \hline 6 \end{array}$$

Il y a 6m d'écart entre l'Arc de Triomphe et la colonne Vendôme.



La colonne Vendôme

7 ✨ Le 11 novembre, 8 bouquets de 79 fleurs sont déposés au monument aux morts.

Combien de fleurs ont été nécessaires pour composer les 8 bouquets ?

*J'ai 8 bouquets de 79 fleurs, j'ai pris 8 fois 79 fleurs pour faire les bouquets
-> c'est une multiplication.*

$$\begin{array}{r} 79 \\ \times 8 \\ \hline 632 \end{array}$$

632 fleurs ont été nécessaires pour composer les 8 bouquets.

8 ✨ En France, une personne consomme environ 139 g de pain par jour.

Combien de grammes de pain un Français consomme-t-il en moyenne par semaine ?



$$\begin{array}{r} 139 \\ \times 7 \\ \hline 973 \end{array}$$

Un Français consomme en moyenne 973g de pain par semaine.