

# Correction et informations complémentaires

## Lundi 16 mars

### Mathématiques

- Le nombre décimal du jour : Leçon 18

**CM2** Le nombre décimal du jour (2)

1/ écrire dans le tableau : 4 783,621

PARTIE ENTIERE				PARTIE DECIMALE		
Mille	Centaine	Dizaine	Unité	Dixième	Centième	Millième
4	7	8	3	6	2	1

2/ Différentes écritures du nombre :

$$4\,783,621 = \frac{4\,783\,621}{\dots\,1\,000}$$

Pour vous aider, il se lit aussi :

4783 unités et 621 millièmes

La fraction se lit :

4 millions 783 mille 621 millièmes

4 783 621 sur 1000

Vérifie à la calculatrice

**A faire en plus**

Ecrire ce nombre en lettres

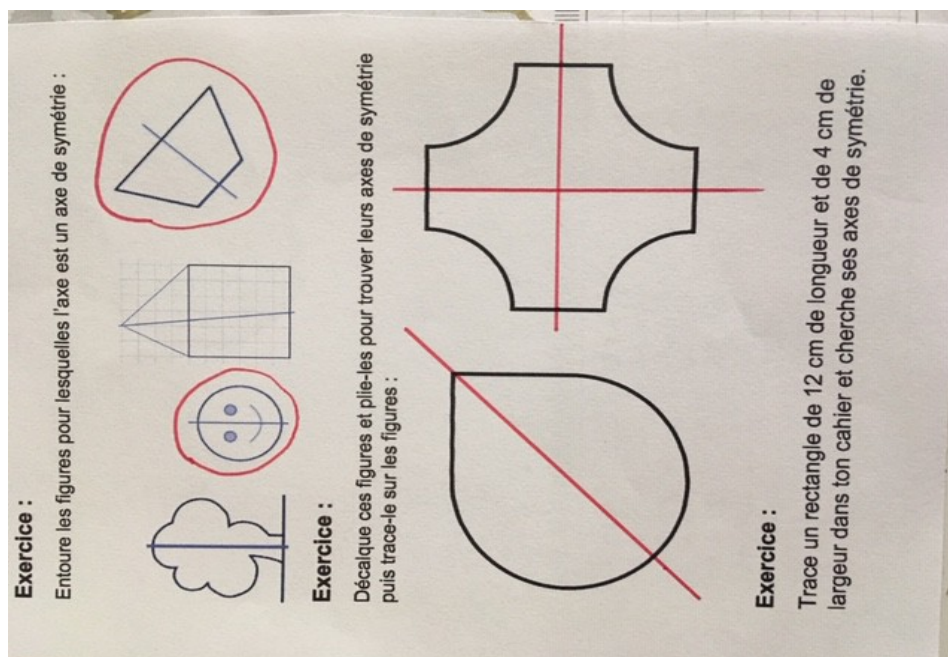
## A savoir

«Vingt», «cent» et «mille» : avec ou sans «s» ?

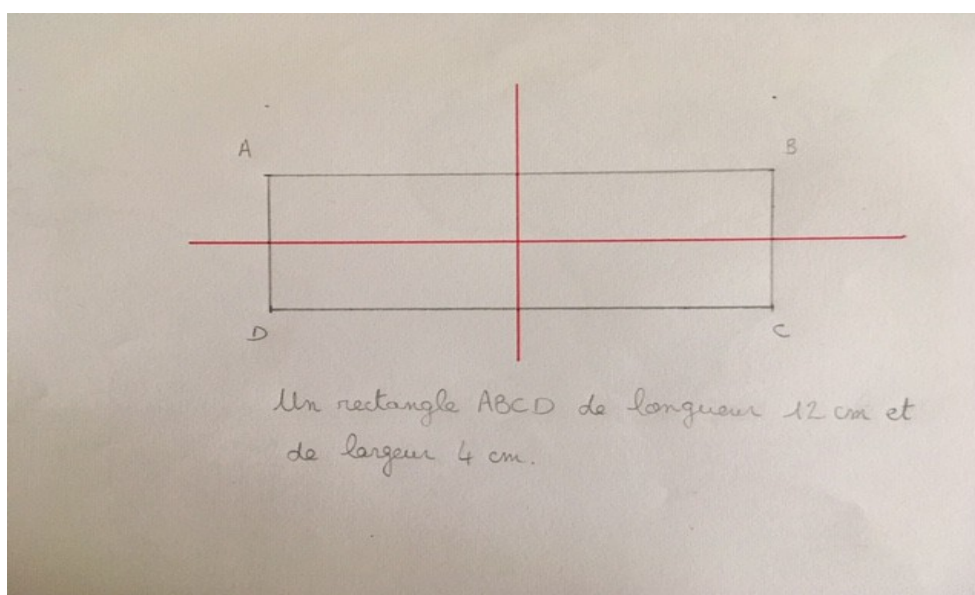
<https://www.youtube.com/watch?v=bs5T1fy5PJM>

- Fiche exercices de symétrie : Leçon La symétrie + exercice

**Relire la leçon et faire l'exercice proposé à la fin de la leçon**



**Aide pour tracer le rectangle : leçon 4**

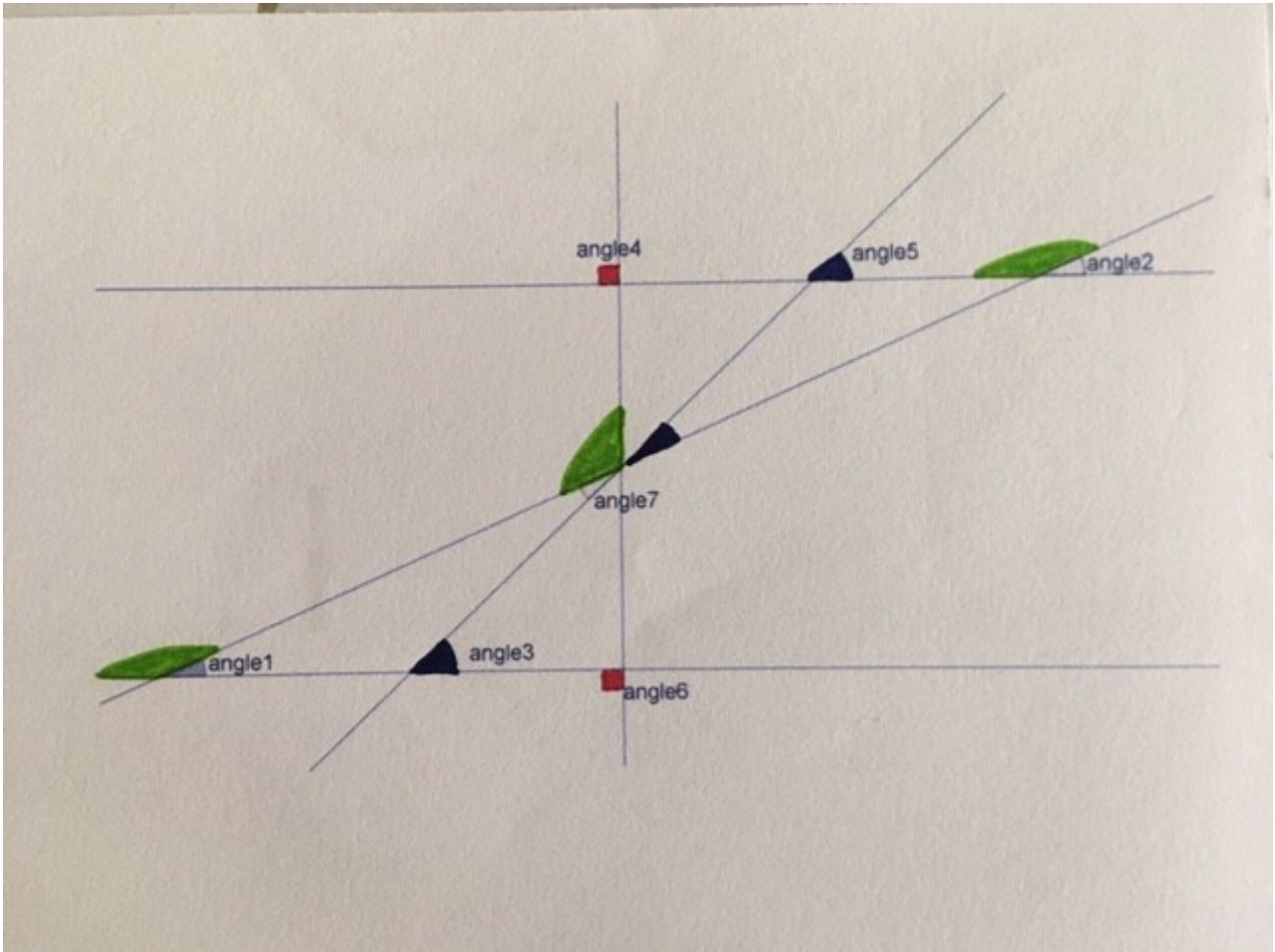


Lire les leçons 5 (périmètres) et 15 (aires)

Calculer le périmètre et l'aire du rectangle ABCD

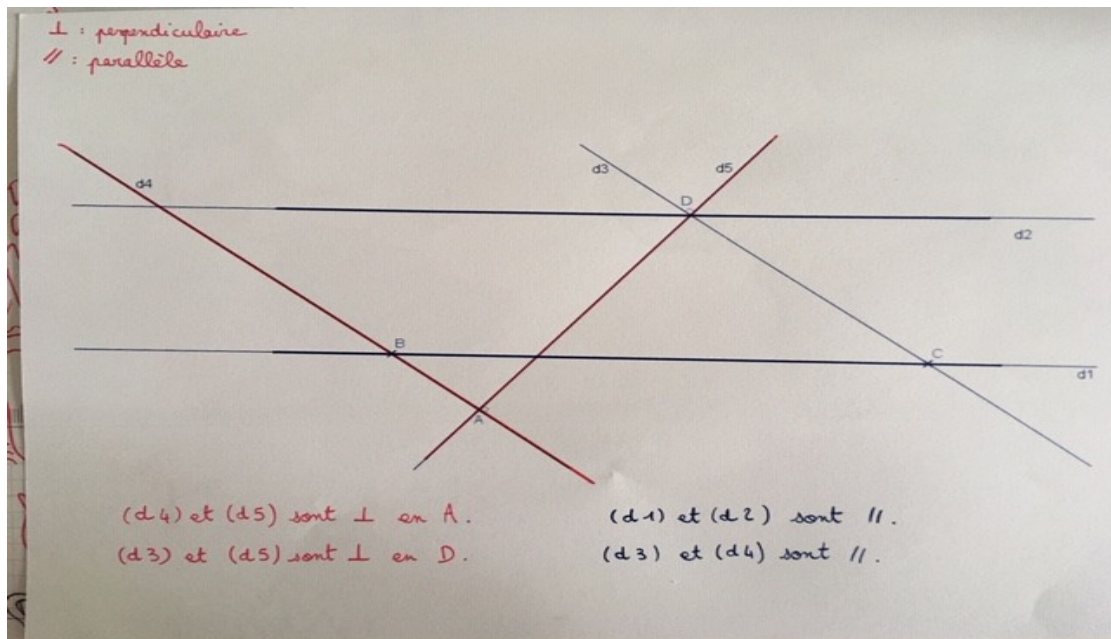
- Fiche Rituel Angles : Leçon 13

Relire la leçon



- Fiche Rituels Droites

Relire la leçon 12



Si possible, entraîne-toi à tracer des droites perpendiculaires et parallèles.