
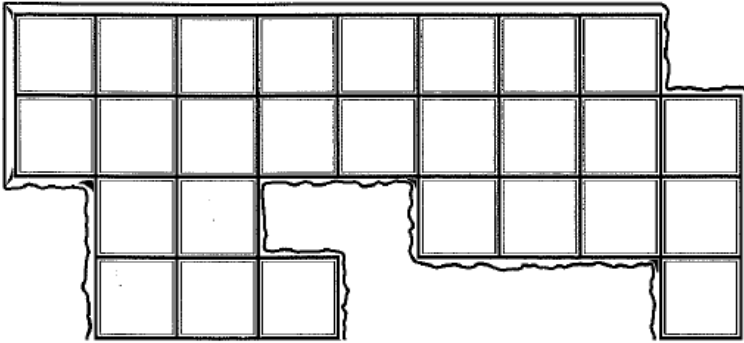


LUDO MATHS N°2

1 Quel gourmand ce Ludo!



Combien de carrés de chocolat Ludo a-t-il mangés?




Ludo a mangé carrés de chocolat.



2 Ludo joue aux fléchettes.



Quel est son score?



Ludo a marqué points.

3 Le labyrinthe



Entoure les numéros des portes par lesquelles Ludo pourra sortir.

