

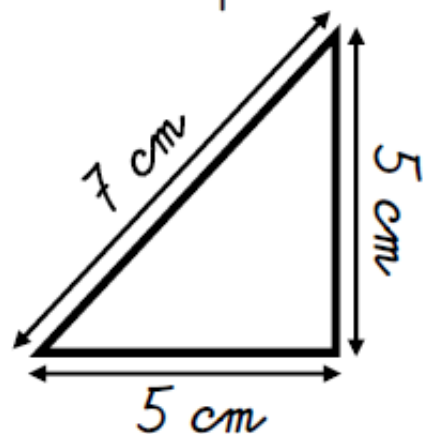
Measures

Date

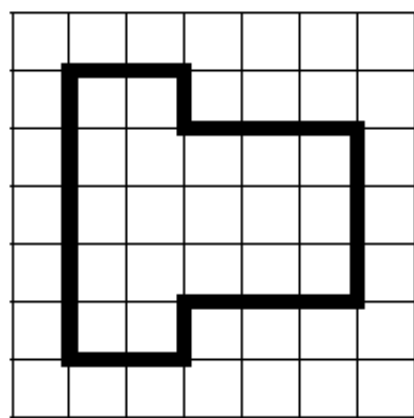
Prénom



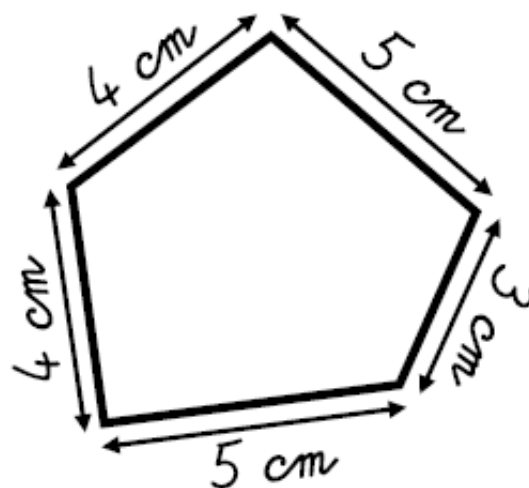
1. Calcule le périmètre de ces polygones.



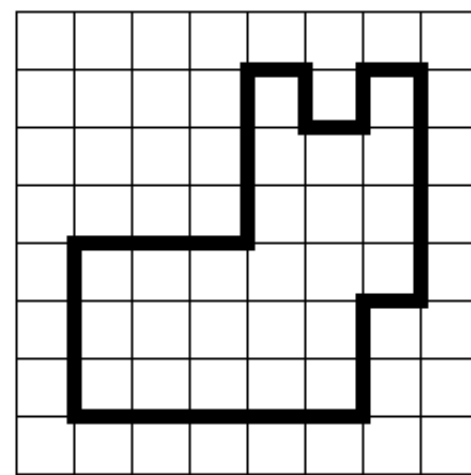
$P =$ _____
 $P =$ _____ cm



$P =$ _____
 $P =$ _____ carreaux



$P =$ _____
 $P =$ _____ cm

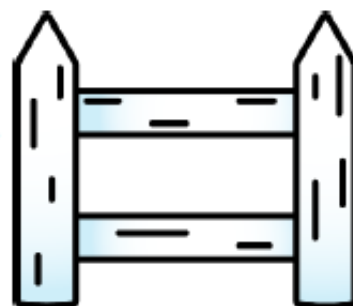


$P =$ _____
 $P =$ _____ carreaux

2. Résous ce problème dans ton cahier.

Thomas veut entourer son potager carré de 15 m de côté avec une barrière.

Quelle longueur de barrière lui faut-il ?



3. Dans ton cahier, trace un polygone de périmètre 12 carreaux !