

Prénom : .....

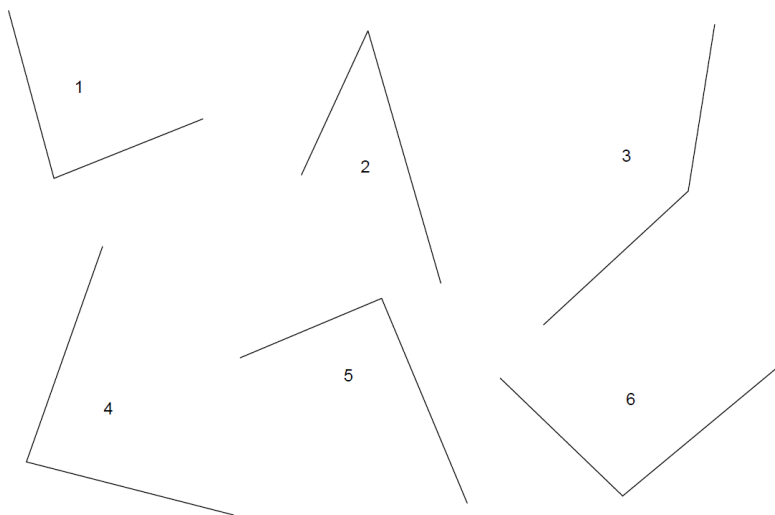
Date : .....

**EVALUATION GRANDEURS ET MESURES CM1 / CM2**  
**Les angles**

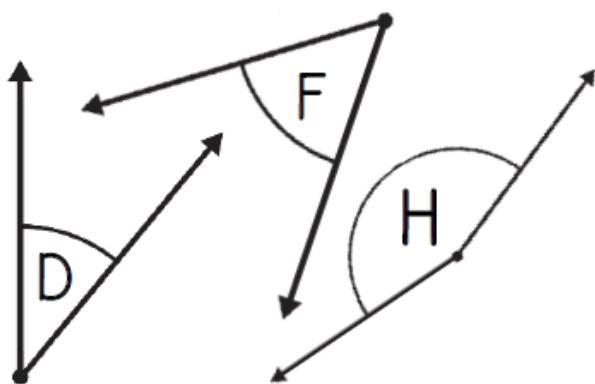
Compétences évaluées	A+	A	PA	NA	NE
Estimer et vérifier en utilisant l'équerre qu'un angle est droit, aigu ou obtus					
Reproduire des angles					
Comparer des angles en utilisant un gabarit					

Exercice 1 : Indique si les angles suivants sont aigus, obtus ou droits.

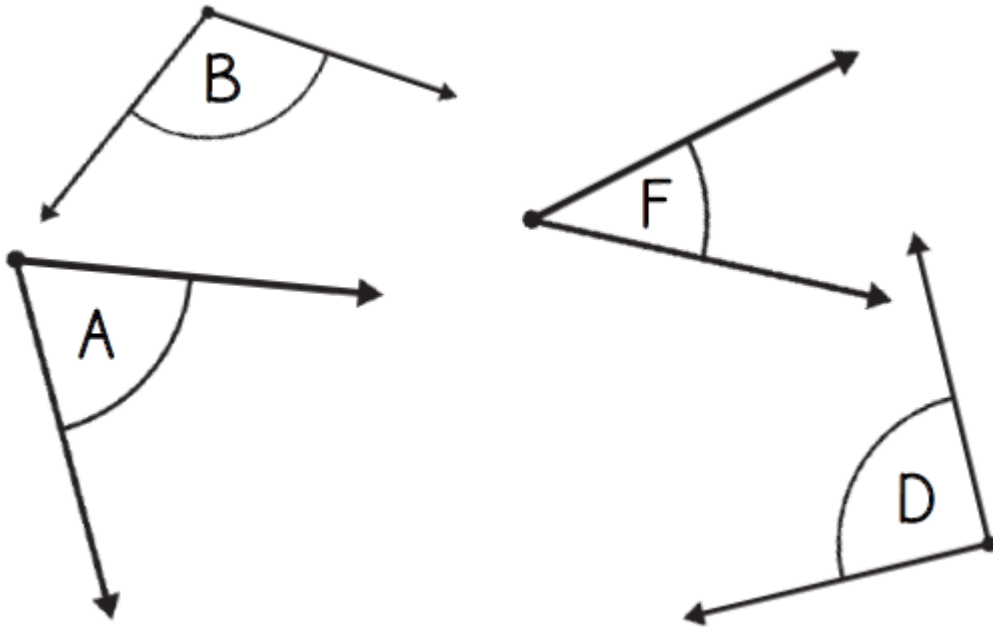
- 1 : .....
- 2 : .....
- 3 : .....
- 4 : .....
- 5 : .....
- 6 : .....



Exercice 2 : Reproduis les angles D, F et H.

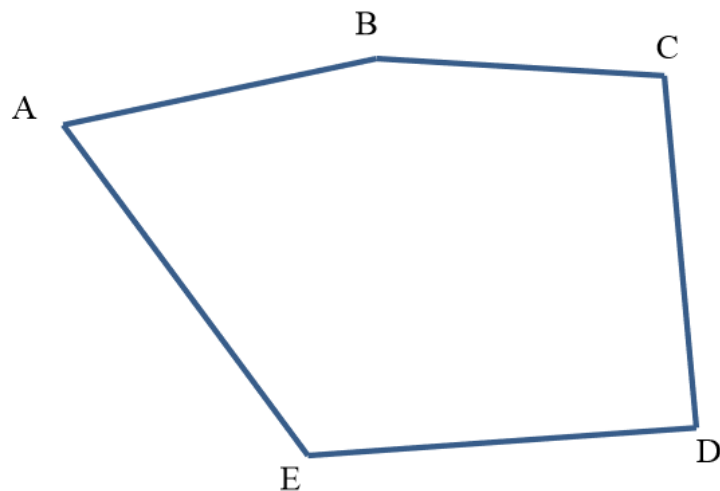


Exercice 3 : Range ces angles du plus aigu au plus obtus (du plus petit au plus grand).



Bonus – Exercice 4 :

- 1) Indique la nature de chacun des angles de la figure.
- 2) Puis compare les angles de cette figure et classe-les du plus grand au plus petit.



.....

.....

.....